

# Географія

## Зразки завдань

### Загальна географія

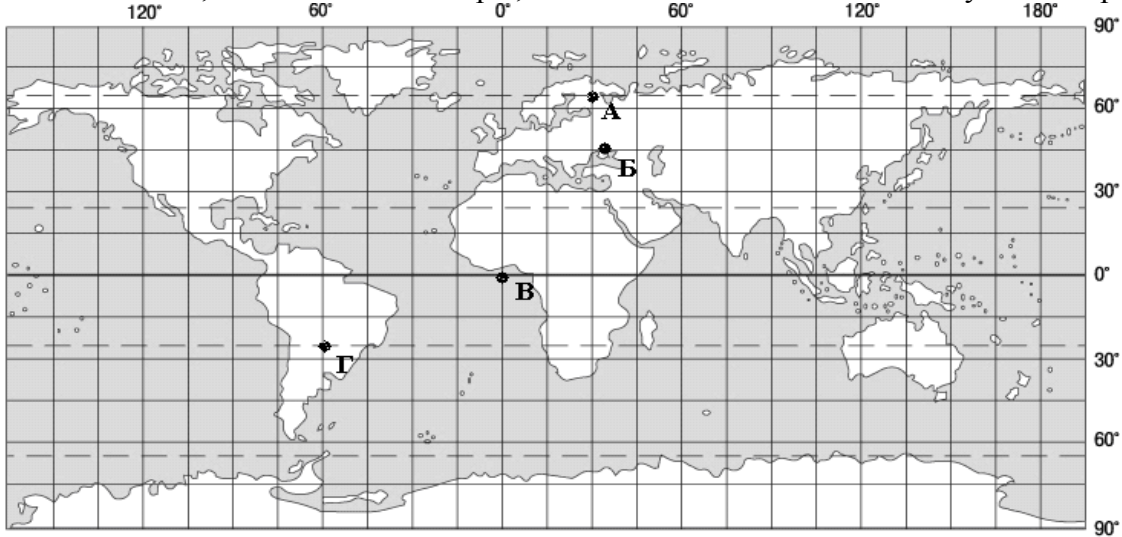
#### Завдання з вибором однієї правильної відповіді

1. Яке твердження є визначенням поняття «*географія*»?
  - А Наука про властивості та будову матерії, закони її руху.
  - Б Наука про просторові відношення та форми реального світу.
  - В Наука про природу земної поверхні, розміщення населення та господарства.
  - Г Наука про загальний розвиток того чи іншого народу, країни або всього людського суспільства.
2. Що вивчає наука географія?
  - А склад, будову, властивості та перетворення речовин навколишнього світу
  - Б природу земної поверхні, розміщення населення та господарства
  - В просторові відношення та форми реального світу
  - Г властивості та будову матерії, закони її руху
3. Яка подія відбулася на початку епохи Великих географічних відкриттів?
  - А відкрито Антарктиду
  - Б з'явилися перші географічні карти
  - В уперше висловлено припущення, що Земля має форму кулі
  - Г європейці дізналися про нову частину світу
4. Укажіть античного вченого, який написав у III ст. до Р.Хр. двохтомну працю, назва якої в перекладі з грецької означає «землеопис».
  - А Ератосфен
  - Б Геродот
  - В Страбон
  - Г Птолемей
5. Хто розробив вчення про біосферу та ноосферу?
  - А Ч. Дарвін
  - Б О. Гумбольдт
  - В В. Вернадський
  - Г В. Докучаєв
6. Укажіть напрямок обертання Землі навколо своєї осі.
  - А із заходу на схід
  - Б із півдня на північ
  - В зі сходу на захід
  - Г залежить від пори року чи від часу доби
7. Які чинники зумовлюють зміну пір року?
  - А обертання Землі навколо центра Галактики та сила тяжіння
  - Б кількість сонячної радіації та прозорість атмосфери
  - В обертання Землі навколо своєї осі
  - Г кут нахилу земної осі до площини орбіти та рух Землі навколо Сонця

8. Причиною припливів і відпливів у Світовому океані є

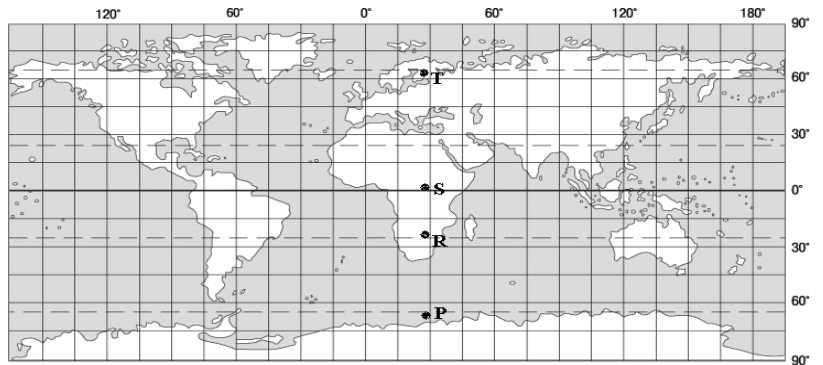
- А притягання Місяця та Сонця.
- Б нерівномірний річковий стік.
- В нерівномірне нагрівання земної поверхні.
- Г нахил земної осі до площини орбіти.

9. У якій із точок, що позначені на карті, сонце знаходиться в zenіті ополудні 23 вересня?



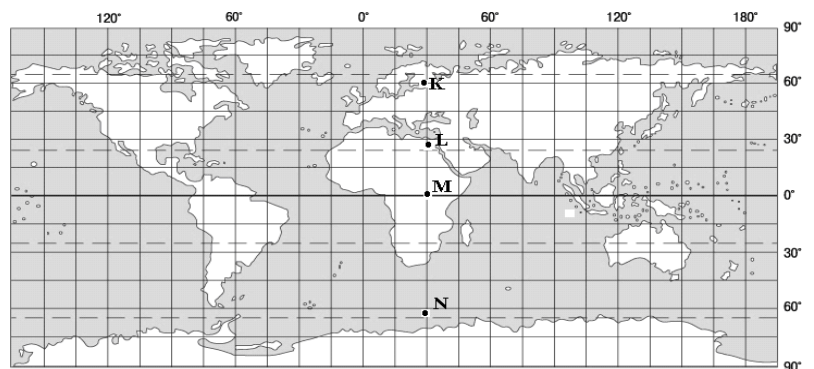
10. У якій із вказаних на меридіані 30 сх. д. точок, позначених на карті буквами, сонце зійде 20 грудня найраніше за всесвітнім часом?

- А Р
- Б R
- В S
- Г Т



11. Укажіть, у якій із точок, указаних на карті буквами, на меридіані 30° сх.д.сонце зійде 20 червня найраніше за часом Грінвіцького меридіана.

- А К
- Б L
- В M
- Г N



12. Визначте напрямок руху туриста, якщо Полярну зірку він бачить праворуч від себе.

- А захід
- Б північ
- В південь
- Г схід

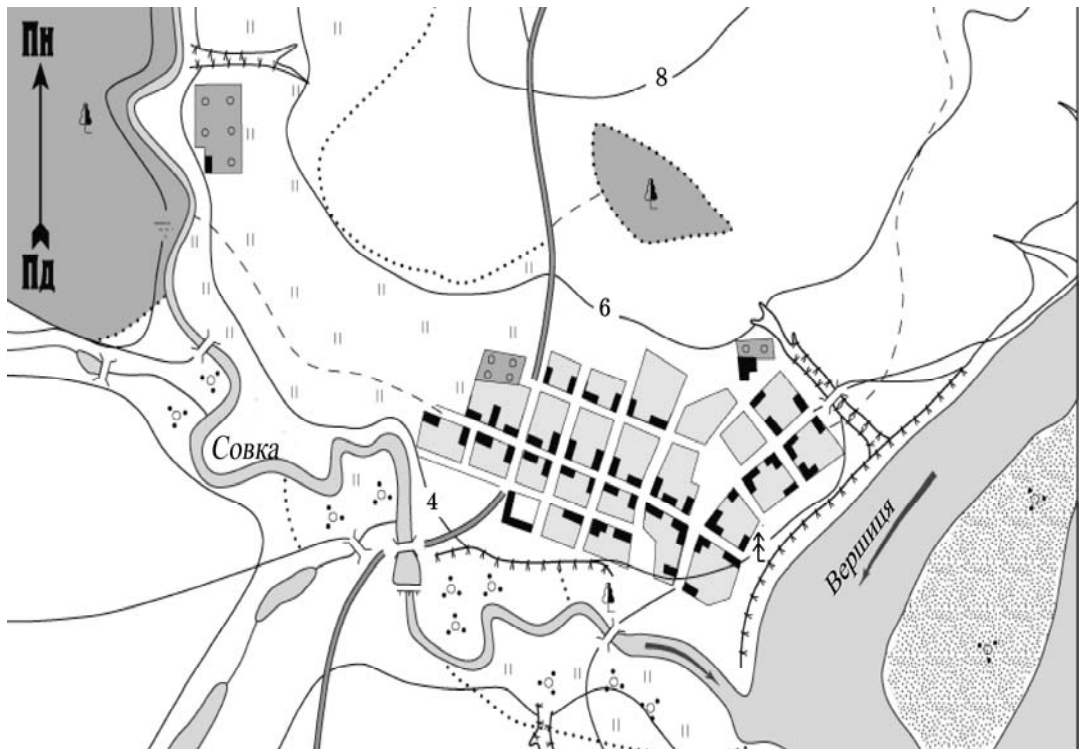
13. Допоможіть туристові, який знаходиться в Північній півкулі (див. мал.), визначити сторону горизонту опівдні ліворуч від нього.

- А північ
- Б захід
- В схід
- Г південь



14. Розгляньте план місцевості. Яке число найточніше відображає відстань у метрах, яку пройшов пішохід від річки Совки, що протікає попід лісом стежкою, через найдовшу вулицю села до ялини над обривом річки Вершиці?

- А 850
- Б 1300
- В 2700
- Г 2250



1:15 000

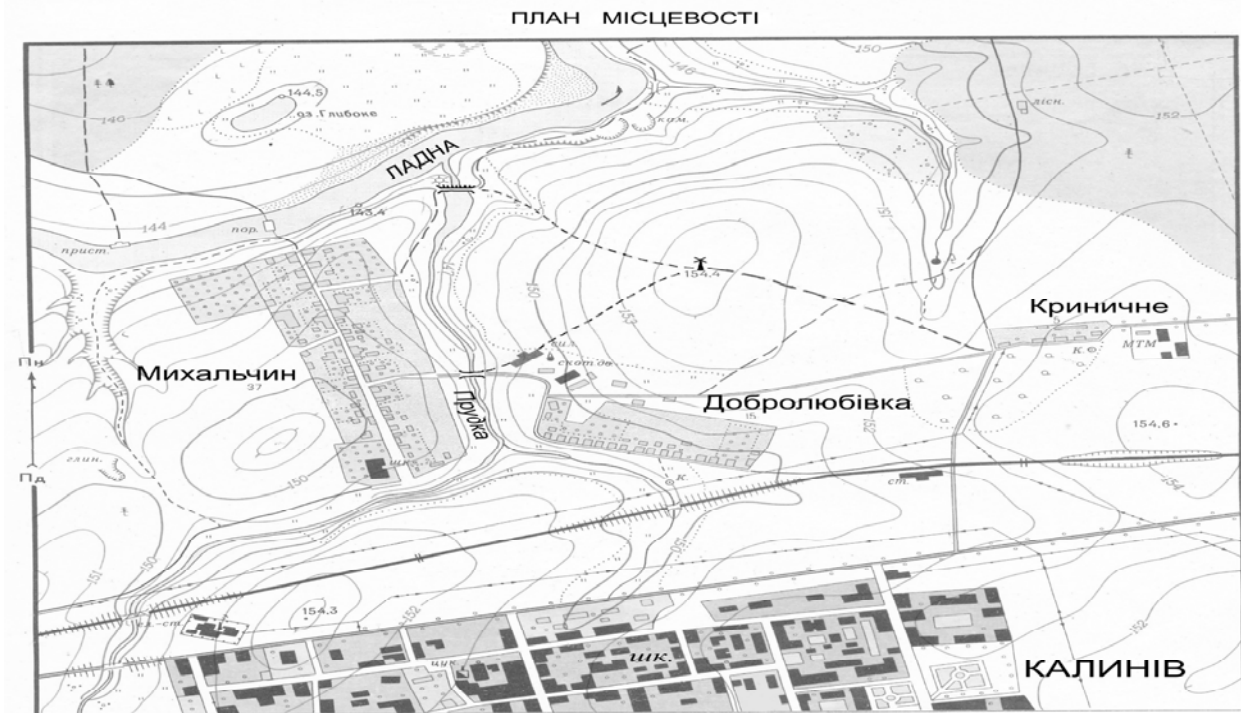
в 1 сантиметрі 150 метрів

300 240 180 120 60 0 150 300 450 600 метрів

Суцільні горизонталі проведено через 2 метри

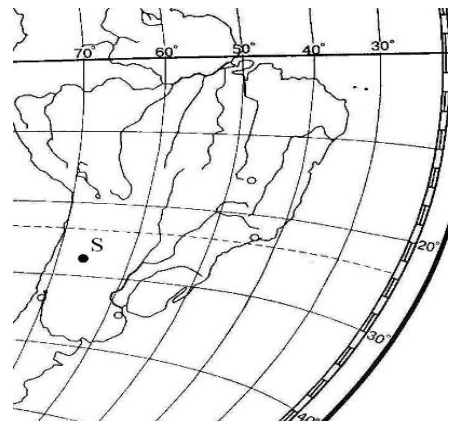
15. Визначте за планом місцевості ділянку з найбільшою крутизною схилу на шляху, який пройшли учні під час екскурсії за маршрутом: школа м. Калинів – північно-східна околиця міста – дорога до західної околиці с. Криничне – польова дорога до вітряка – стежка до греблі через р. Прудку.

- А між школою й околицею міста
- Б між містом Калинів і селом Криничне
- В між селом Криничне і вітряком
- Г між вітряком і греблею



16. Визначте географічні координати точки S.

- А 27° пд. ш. і 66° зх. д.
- Б 27° пд. ш. і 74° сх. д.
- В 33° пн. ш. і 66° сх. д.
- Г 33° пн. ш. і 74° зх. д.



17. Визначте географічні координати антарктичної станції «Восток», де зафіксовано найнижчу температуру повітря на Землі.

- А 79° пд. ш. 105° сх. д.
- Б 79° пн. ш. 105° сх. д.
- В 79° пн. ш. 105° зх. д.
- Г 79° пд. ш. 105° зх. д.



18. Знайдіть **помилкове** твердження щодо призначення приладу для визначення параметрів географічних явищ чи об'єктів.
- А Гігрометром вимірюють атмосферний тиск.
  - Б Нівеліром вимірюють відносну висоту місцевості.
  - В Ехолотом вимірюють глибину водойм.
  - Г Сейсмографом вимірюють силу коливань земної кори.
19. Знайдіть **помилкове** твердження про використання метеорологічного приладу.
- А Гігрометром вимірюють вологість повітря.
  - Б Барометром вимірюють атмосферний тиск.
  - В Флюгером визначають напрямок вітру.
  - Г Термометром вимірюють сумарну сонячну радіацію.
20. Знайдіть **помилкове** твердження щодо використання метеорологічного приладу.
- А Термометром вимірюють температуру повітря.
  - Б Барометром вимірюють випаровуваність.
  - В Флюгером визначають напрямок і силу вітру.
  - Г Гігрометром вимірюють вологість повітря.
21. Яким приладом вимірюють вологість повітря?
- А барометром
  - Б гігрометром
  - В нівеліром
  - Г курвіметром
22. Для чого в процесі створення карт застосовують картографічної проєкції?
- А щоб виділити на карті лише ті об'єкти, які відповідають її тематиці
  - Б щоб умовні знаки були максимально схожими на зображувані предмети
  - В щоб уникнути будь-яких спотворень
  - Г щоб сферичну поверхню Землі відобразити на площині карти
23. Укажіть засіб орієнтування на місцевості для пішогодного 30-кілометрового турпоходу.
- А адміністративна карта України (масштаб 1: 650000)
  - Б топографічна карта (масштаб 1: 200000)
  - В пейзажний фотознімок місцевості (розмір фотознімка – 15 x 20 см)
  - Г космічний знімок (масштаб в 1 см – 30 км)
24. Укажіть правильний варіант послідовності шарів внутрішньої будови Землі, починаючи від поверхні.
- А зовнішнє ядро – внутрішнє ядро – мантія – земна кора
  - Б земна кора – мантія – зовнішнє ядро – внутрішнє ядро
  - В земна кора – мантія – внутрішнє ядро – зовнішнє ядро
  - Г земна кора – зовнішнє ядро – внутрішнє ядро – мантія
25. Як називаються великі блоки земної кори з верхньою мантією, що переміщуються по астеносфері?
- А щити
  - Б платформи
  - В літосферні плити
  - Г складчасті структури

26. Укажіть шар, який **не** виділяють у материковому типі земної кори.

- А гранітний
- Б метаморфічний
- В базальтовий
- Г осадовий

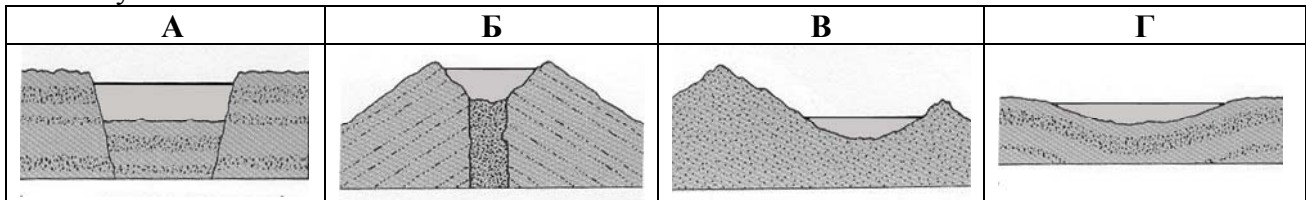
27. У чому схожість порід магматичного, осадового та метаморфічного походження?

- А складаються з мінералів
- Б складаються із застиглої лави
- В змінені під дією високої температури та тиску
- Г утворилися з лави внаслідок змін температури повітря та води

28. Що є основним чинником утворення яру?

- А робота вітру
- Б робота текучих вод
- В вплив льодовика
- Г вулканізм і землетруси

29. Визначте схему, на якій відображено походження озерних улоговин Танганьїки та Байкалу?



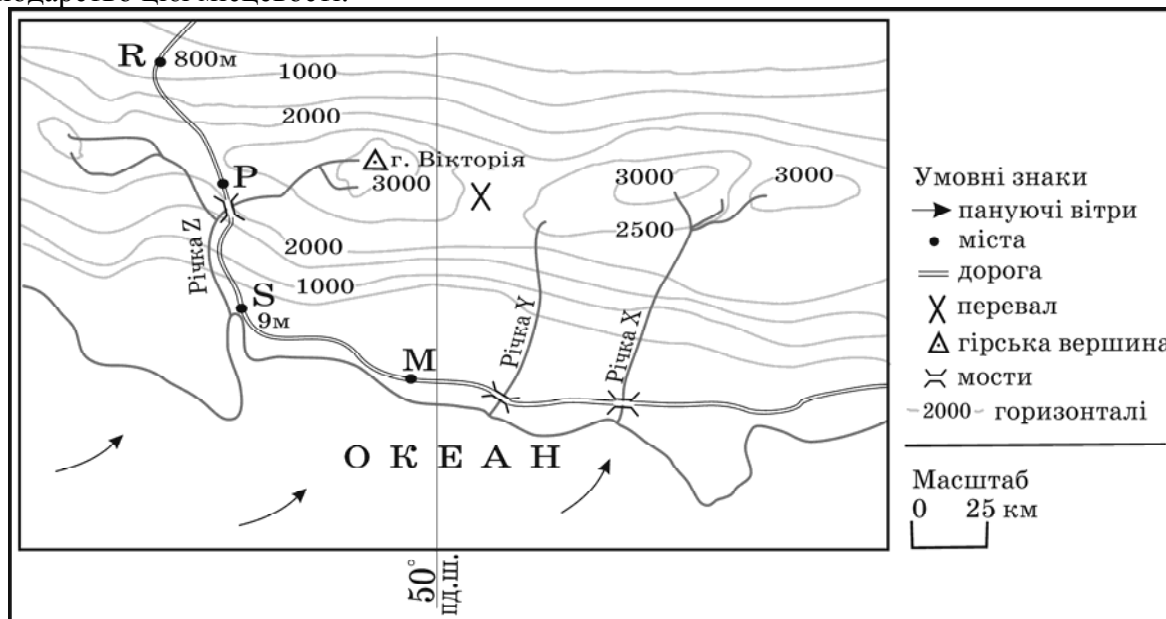
30. Три з указаних морів омивають Європу, а одне – іншу частину світу. Яка назва цього моря?

- А Балтійське
- Б Північне
- В Баренцове
- Г Охотське

31. Якій водоймі, що містить у назві слово «море», відповідає географічне поняття «море»?

- А Каспійське море
- Б Мертве море
- В Київське море
- Г Охотське море

32. Розгляньте карту уявної земної поверхні. Доберіть правильне твердження про природу та господарство цієї місцевості.



- А Середньорічна кількість опадів у місті Р більша, ніж у місті R.
- Б Витрата води в річках X, Y, Z значно більша у квітні, ніж у жовтні.
- В Найімовірніше порт буде збудовано в районі міста М.
- Г Найкоротша дорога між містами S і М проходить через перевал

33. Якому поняттю відповідає визначення: «стадія щорічного водного режиму річок, яка характеризується найбільшою водністю, високим і тривалим підняттям рівня води, що супроводжується затопленням заплави»?

- А повінь
- Б паводок
- В межень
- Г приплив

34. Що сприяє розвитку «парникового ефекту»?

- А збільшення кількості вуглекислого газу в атмосфері
- Б зменшення товщини озонового шару в стратосфері
- В зменшення кількості кисню в нижньому шарі тропосфери
- Г збільшення кількості азоту в атмосфері

35. Якому поняттю відповідає визначення: «кристали льоду, що осідають на гілках дерев, проводах тощо за туманної морозної безвітряної погоди»?

- А сніг
- Б ожеледь
- В іній
- Г паморозь

36. Що з'являється на ґрунті та горизонтальних предметах, охолоджених нижче 0°C, від контакту з насиченим водяною парою повітрям?

- А сніг
- Б ожеледь
- В іній
- Г паморозь

37. Визначте опади, які потрапляють на Землю із хмар?

- А туман
- Б роса
- В град
- Г іній

38. Який тип клімату має такі характеристики: *низький атмосферний тиск; температура протягом року +26° ... +28° С; середньорічна кількість опадів понад 2000 мм, що рівномірно випадають впродовж року?*

- А екваторіальний
- Б тропічний вологий
- В субекваторіальний
- Г помірний морський

39. Завдяки якій складовій ґрунту він стає родючим?

- А повітря
- Б материнська порода
- В гумус
- Г вода

40. Які ґрунти є найбільш поширеними в зоні лісостепів помірного поясу?

- А коричневі та сіро-коричневі ксерофітних лісів і чагарникових степів
- Б чорноземи
- В дерново-підзолисті
- Г бурі лісові

41. Який меліоративний захід необхідно застосувати для зменшення кислотності ґрунту?

- А вапнування
- Б гіпсування
- В розсолення
- Г кислування

42. Якому поняттю відповідає визначення: *“важкопрохідні ліси та чагарники, щільно перевиті ліанами”*?

- А скреб
- Б джунглі
- В діброва
- Г тундра

## Географія материків і океанів

43. Серед ознак Світового океану укажіть ту, що **не** є характерною для нього.

- А серединні хребти утворюють єдину систему
- Б температура води переважно залежить від географічної широти і розподіляється на його поверхні зонально
- В рух води відбувається на поверхні, а в товщі і в придонних шарах – вода в стані спокою
- Г середня солоність приблизно 35 – 36 проміле

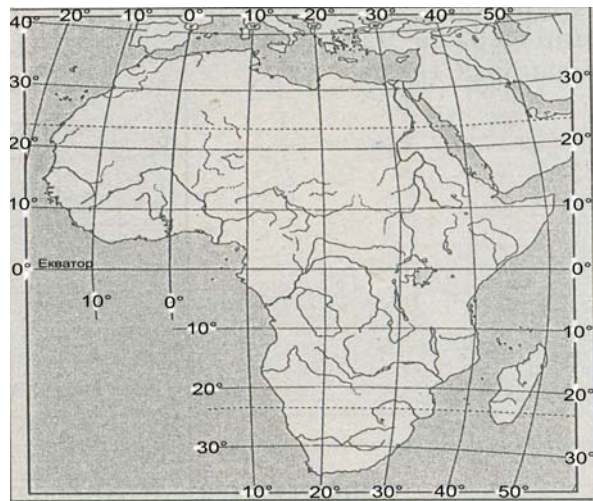


44. Визначте правильне твердження про природу океанів.
- А У Північному Льодовитому океані є багато коралових островів.
  - Б У Атлантичному океані знаходиться найглибша западина Світового океану.
  - В Акваторія Тихого океану займає понад половину площі поверхні планети.
  - Г Водні маси верхнього шару Індійського океану холодніші на півдні, ніж на півночі.
45. Укажіть ознаку, що є характерною для Північного Льодовитого океану.
- А майже вся площа дна є шельфом
  - Б усі моря океану замерзають узимку
  - В поверхневі води мають солоність 37‰
  - Г серед морів переважають окраїнні
46. Серед ознак, що характеризують Індійський океан, укажіть ту, що цьому океану **не** властива.
- А в одному з морів цього океану солоність води становить 41 ‰
  - Б течія Західних вітрів відгалужується біля Австралії на північ
  - В у найпівнічнішій частині океану – Перській затоці найнижча температура поверхневих вод
  - Г дно цього океану має рифтові хребти і глибоководні жолоби, бувають катастрофічні цунамі
47. Яка течія переміщується над Південноатлантичним, Західноіндійським хребтами та Східнотихоокеанським підняттям?
- А Гольфстрім
  - Б Західних вітрів
  - В Північна пасатна
  - Г Куросіо
48. Які типи повітряних мас переважають у субтропічному кліматичному поясі материків Північної півкулі взимку?
- А екваторіальні
  - Б тропічні
  - В помірні
  - Г арктичні
49. Який чинник обумовив формування природи пустель Атакама та Наміб?
- А прибережні холодні течії
  - Б прибережні теплі течії
  - В західні вітри
  - Г полярні вітри
50. Укажіть географічні об'єкти, у межах яких рослинний і тваринний світ найбагатший і найрізноманітніший.
- А Гобі, Наміб
  - Б Альпи, Аппалачі
  - В Амазонія, Калімантан
  - Г Масив Вінсон, Баффінова Земля

51. Укажіть **помилкове** твердження стосовно особливостей материка.
- А Африка – материк, де природні зони розташовані симетрично відносно екватора.
  - Б Майже половину площі Північної Америки в недавньому геологічному минулому покривали льодовики.
  - В Єдиний материк, де немає вулканів – Антарктида.
  - Г Австралія – найменший материк планети.

52. Визначте **помилкове** твердження про природу материка.
- А У рельєфі Африки переважають плоскогір'я.
  - Б Найбільшим хижаком Антарктиди є білий ведмідь .
  - В Морями чотирьох океанів омивається Євразія.
  - Г В Австралії немає діючих вулканів.

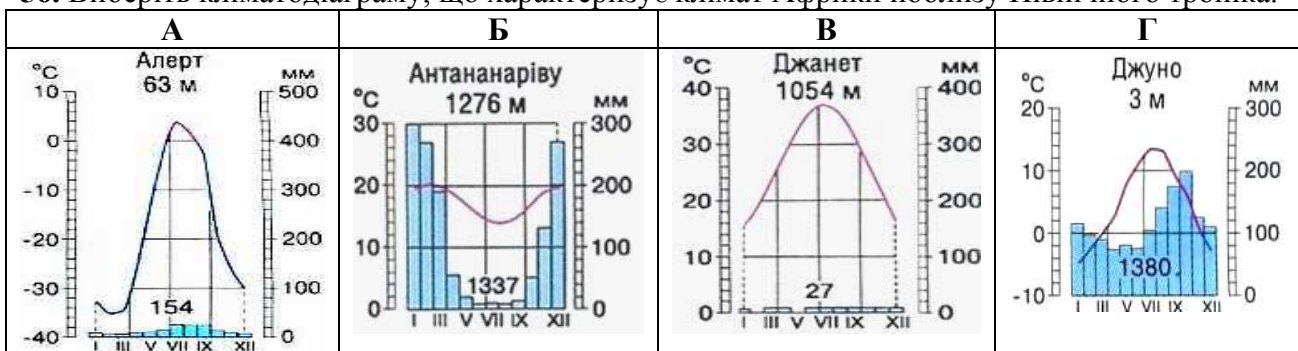
53. Визначте протяжність материка Африка у градусах уздовж меридіана 20° сх. д.
- А 22°
  - Б 55°
  - В 65°
  - Г 70°



54. Укажіть географічний об'єкт, у межах якого знаходиться найвища вершина Африки.
- А гори Атлас
  - Б Драконові гори
  - В Ефіопське нагір'я
  - Г Східноафриканське плоскогір'я

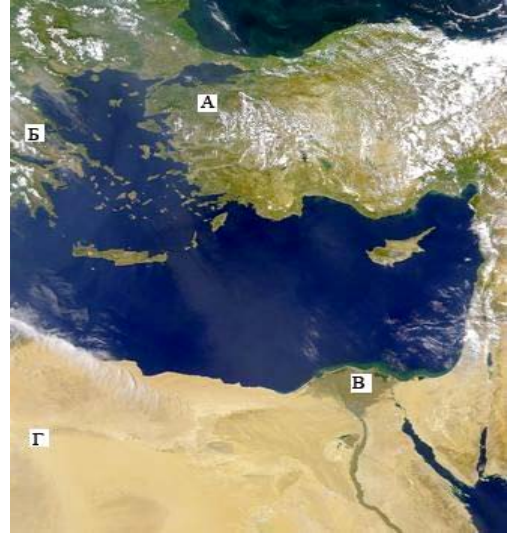
55. Яка причина наявності великої кількості водоспадів у Африці?
- А високий показник падіння річок, що зумовлено значною різницею висот витоків і гирл
  - Б повені, викликані сезонними опадами
  - В складний плоскогірний рельєф з виступами на поверхню кристалічних порід
  - Г поглиблення річищ розмиванням пухких порід швидкою течією

56. Виберіть кліматограму, що характеризує клімат Африки поблизу Північного тропіка.



57. Укажіть помилкове твердження щодо розташування природних зон Африки.
- А Природні зони знаходяться на материк симетрично відносно екватора.
  - Б На рівнинній частині лісостеп займає лише північне узбережжя.
  - В Твердолисті ліси та чагарники знаходяться в субтропічному кліматичному поясі.
  - Г Савани простягаються на північ, південь і схід від масиву екваторіальних лісів.

58. На фрагменті космічного знімка Середземномор'я буквами позначено чотири регіони. Виберіть букву (А, Б, В чи Г), якою позначено район древнього зрошувального землеробства в дельті найдовшої річки.



59. Яке твердження щодо географічного положення Австралії правильне?
- А Екватор перетинає південну частину материка.
  - Б Майже посередині її перетинає Південний тропік.
  - В Найближчими до материка є Африка та Північна Америка.
  - Г Зі сходу омивається водами Атлантичного океану.
60. Яке твердження щодо населення материка Австралії правильне?
- А Темпи природного приросту населення більші, ніж у Південній Америці
  - Б Найвищий рівень урбанізації серед усіх материків
  - В Корінне населення належить до австралоїдної гілки монголоїдної раси
  - Г Аборигени становлять 20% населення материка
61. Укажіть головну причину забруднення південно-східного узбережжя Австралії.
- А видобуток корисних копалин відкритим способом
  - Б концентрація великих міст і промислових підприємств
  - В видобуток на шельфі Тасманового моря нафти – головної експортної продукції країни
  - Г лісозаготівля переважно хвойних порід дерев
62. Яку область земної кулі називають Антарктикою?
- А Антарктиду разом з прибережними водами та прилеглими островами
  - Б центральну частину Антарктиди, де переважають найнижчі температури
  - В прибережні холодні води навколо материка Антарктида
  - Г сукупність усіх островів навколо материка Антарктида

63. Укажіть тварину, що не є представником фауни Антарктики.

- А морський леопард
- Б криль
- В лемінг
- Г буревісник

64. Який материк має найвищу вершину понад 5 км, дуже сухе повітря в центральній частині, високий атмосферний тиск, сумарну сонячну радіацію в грудні-січні приблизно таку як на екваторі, альbedo понад 80%?

- А Африка
- Б Австралія
- В Антарктида
- Г Південна Америка

65. Укажіть гірську країну, де витягнуті із півночі на південь паралельні гірські хребти утворюють вузли з найбільшими вершинами: Аконкагуа, Котопахі, Чимборасо.

- А Анди
- Б Великий Вододільний хребет
- В Гімалаї
- Г Аппалачі

66. Визначте природну країну Південної Америки, що має такі ознаки: *«субтропічний клімат з рівномірним зволоженням; на незораних червонувато-чорних ґрунтах домінують злаки; водяться гуанако, мустанги, олені, нанду; переважає вирощування кукурудзи, пшениці та скотарство».*

- А Патагонія
- Б Пампа
- В Гвіанське плоскогір'я
- Г Бразильське плоскогір'я

67. Укажіть, яка особливість природи притаманна лише Південній Америці і не характерна для будь-якого з інших материків.

- А на заході материка багато діючих вулканів, бувають землетруси
- Б живлення багатьох річок – дощове
- В холодна прибережна течія спричиняє посилення сухості повітря у тропічній пустелі
- Г на материк екологічну нішу хвойних займають чилійські кедри та бразильські араукарії

68. Укажіть материк, найвища гірська країна якого є «ровесницею» Аппалачів та Уральських гір.

- А Північна Америка
- Б Австралія
- В Південна Америка
- Г Антарктида

69. Укажіть групу водних об'єктів, що омивають береги лише Північної Америки.

- А Баренцове море, море Лаптевих, Берингова протока
- Б затока Фанді, Гудзонова затока, море Баффіна
- В протока Дрейка, море Беллінсгаузена, море Амундсена
- Г Торресова протока, Тасманове море, Бассова протока

70. Укажіть причини значної (2000-3000 мм) кількості опадів на Тихоокеанському узбережжі в помірному кліматичному поясі Північної Америки.

- А безперешкодне перенесення пасатами повітряних мас із північного сходу на південний захід від тропічних широт
- Б зіткнення арктичних, помірних і тропічних повітряних мас на рівнинній території
- В вільне проникнення холодних повітряних мас із Північного Льодовитого океану
- Г повітряні маси з південного заходу піднімаються навітряним схилом Кордильєр

71. Яке озеро є стічним?

- А Аральське море
- Б Ейр
- В Ері
- Г Чад

72. Уявіть, що турист, рухаючись навпростець по материках зі столиці до «Клондайк Голдраш» («Клондайкська лихоманка»), зустріне на своєму шляху багато води, дерев, хутрових звірів, сліди діяльності давнього льодовика, а в кінцевій точці маршруту – історичний парк, де відображено в експонатах події, які були пов'язані з ресурсами, що зумовили «лихоманку». Укажіть ці ресурси та материк, де вони знаходяться.

- А земельні у Євразії, в польдерах Нідерландів
- Б рекреаційні в Австралії, на мисі Йорк
- В мінеральні Північної Америки, в Канаді
- Г енергетичні Південної Америки на р.Ігуасу

73. Укажіть правильне твердження про пам'ятку природи Північної Америки – печеру Флінт-Мамонтова.

- А Найдовша печера на материках
- Б Знаходиться за Північним полярним колом.
- В Має еолове походження.
- Г Єдина гіпсова печера у світі.

74. На якому материках засновано заповідники: Ноатак, Долина Смерті, Великий Каньйон?

- А Північна Америка
- Б Євразія
- В Австралія
- Г Південна Америка

75. На якому материках знаходяться національні парки: Єллоустонський, Йосемітський, Вуд-Баффало?

- А Австралія
- Б Південна Америка
- В Африка
- Г Північна Америка

76. Укажіть пору року та причину найбільшого річкового стоку на східному узбережжі Євразії.

- А взимку – надходження повітряних мас з Атлантики
- Б навесні – танення значного снігового покриву
- В влітку – мусонні дощі
- Г восени – інтенсивне танення льодовиків


77. Для якої річки характерні такі ознаки: «бере початок у горах, які називають «дахом світу»; переважає живлення талими сніговими і льодовиковими водами цих гір; протікає через пустелі помірного поясу; належить до басейну внутрішнього стоку»?

- А Урал
- Б Мюррей
- В Інд
- Г Амудар'я

78. Серед переліків озер світу вкажіть варіант, у якому названо лише озера Євразії.

- А Байкал, Балхаш, Балатон
- Б Вікторія, Велике Ведмеже, Верхне
- В Ейр, Чад, Ері
- Г Танганьїка, Тітікака, Тана

79. Розгляньте малюнки. Укажіть типових представників фауни північної частини материка, що має найбільшу кількість природних зон.



80. Для якої природної країни Євразії характерні мусонні ліси?

- А Фенноскандія
- Б Східна Азія
- В Балканський півострів
- Г Західна Азія

81. Визначте природно-зональний комплекс, який у багатьох місцях практично зник через антропогенний тиск, пов'язаний із вирубуванням лісів і створенням на їхньому місці численних полів для вирощування однієї з найбільш поширених вологолюбних зернових культур.

- А європейські широколисті ліси
- Б східноазійські мусонні ліси
- В північноамериканські мішані ліси
- Г південноамериканські екваторіальні ліси

82. Яку тварину одомашнено в Тибеті?

- А слон
- Б вівцебик
- В буйвол
- Г як

83. За допомогою карти, де зображено межі поширення багаторічної мерзлоти, визначте країну Євразії, населення якої має можливість в околицях столиці використовувати влітку природні холодильники для збереження продуктів харчування.

- А Норвегія
- Б Росія
- В Фінляндія
- Г Монголія



84. Укажіть правильне твердження про природні ресурси.

- А ґрунт, тварини – невідновні природні ресурси
- Б вугілля, геотермальна енергія – вичерпні природні ресурси
- В енергія Сонця і вітру – невичерпні природні ресурси
- Г нафта, рослини – відновні природні ресурси

## Географія України

85. Із якою країною Україна має морську ділянку державного кордону?

- А Болгарія
- Б Грузія
- В Румунія
- Г Туреччина

86. Визначте хибне твердження щодо кордонів України.

- А Морський – з Туреччиною.
- Б Найдовший – з Росією.
- В Найкоротший – зі Словаччиною.
- Г На півночі – з Білоруссю.

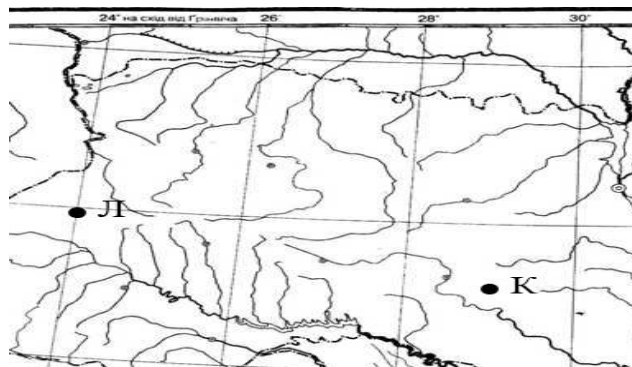
87. Користуючись картою України, визначте відмінність місцевого часу від поясного в м. Львові.

- А відстає на 24 хв.
- Б відстає на 12 хв.
- В випереджає на 12 хв.
- Г випереджає на 24 хв.



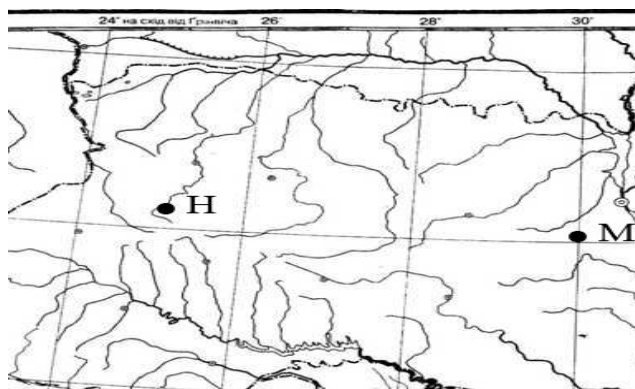
88. Визначте місцевий час у пункті Л (див. фрагмент карти), якщо в пункті К за місцевим часом у цей момент 13 година 04 хвилини.

- А 12 год 44 хв
- Б 13 год 24 хв
- В 12 год 59 хв
- Г 13 год 09 хв



89. Визначте місцевий час у пункті М (див. фрагмент карти), якщо в пункті Н за місцевим часом у цей момент – 8 година 58 хвилин.

- А 8 год 53 хв
- Б 9 год 03 хв
- В 8 год 38 хв
- Г 9 год 18 хв



90. Скориставшись даними таблиці, визначте столицю держави, на залізничному вокзалі якої годинник вказує такий же час, що й на київському.

	Столиця	Широта	Довгота
	Київ	51° пн. ш.	31° сх. д.
А	Братислава	48° пн. ш.	17° сх. д.
Б	Будапешт	47° пн. ш.	19° сх. д.
В	Бухарест	44° пн. ш.	26° сх. д.
Г	Москва	56° пн. ш.	37° сх. д.

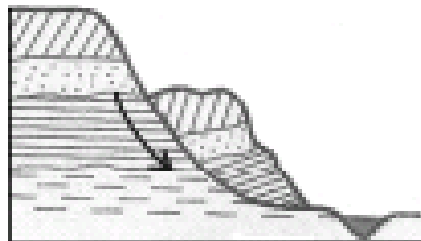
91. На картосхемі зображено межі тектонічних структур України, що позначені цифрами. Якими цифрами позначено лише тектонічні западини

- А 1, 4, 7, 10
- Б 2, 3, 5, 15
- В 5, 6, 11, 13
- Г 8, 9, 12, 14





92. На якій платформі розташований Український кристалічний щит?
- А Західноєвропейська
  - Б Східноєвропейська
  - В Сибірська
  - Г Скіфська
93. Складовою якої тектонічної структури є пороги в руслі річки, що мала назви: Борисфен, Данапріс, Славутич?
- А Волино-Подільська плита
  - Б Дніпровсько-Донецька западина
  - В Український щит
  - Г Донецька складчаста споруда
94. На якій тектонічній структурі розташований Словечансько-Овруцький кряж?
- А Карпатський передгірний прогин
  - Б Дніпровсько-Донецька западина
  - В Український кристалічний щит
  - Г Західноєвропейська платформа
95. Укажіть епоху горотворення кайнозойської ери.
- А мезозойська
  - Б альпійська
  - В байкальська
  - Г герцинська
96. Укажіть еру, до якої відноситься антропогеновий геологічний період.
- А протерозойська
  - Б палеозойська
  - В мезозойська
  - Г кайнозойська
97. Укажіть еру утворення тріасових, юрських і крейдових відкладів у Кримських горах.
- А протерозойська
  - Б палеозойська
  - В мезозойська
  - Г кайнозойська
98. Результат якого процесу зображено на схемі?
- А сель
  - Б карст
  - В зсув
  - Г осипище



99. Яка низовина України знаходиться в басейні правої притоки Дніпра, де густа мережа річок, поширені льодовикові форми поверхні та болота?
- А Закарпатська
  - Б Поліська
  - В Придніпровська
  - Г Причорноморська





100. Укажіть ознаку, що є характерною для Подільської височини?

- А поширені останці-могили
- Б в основі знаходиться передгірний прогин
- В в основі зруйнована складчаста споруда
- Г поширені карстові печери





101. Визначте марганцеворудний басейн корисних копалин.

- А Львівсько-Волинський
- Б Нікопольський
- В Донецький
- Г Дніпровський

102. Яким умовним знаком позначають на карті родовища корисних копалин: Білозерське, Керченське, Криворізьке?

- А 
- Б 
- В 
- Г 

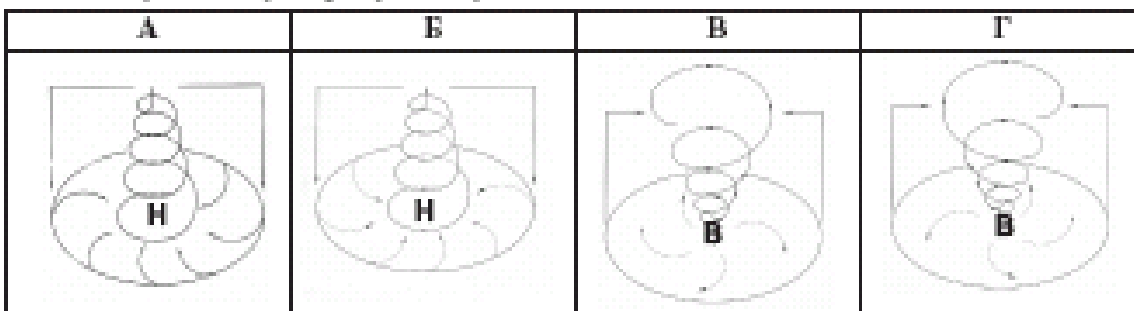
103. Яким умовним знаком на карті позначають родовища корисних копалин: Бориславське, Бугруватівське, Долинське?

- А 
- Б 
- В 
- Г 

104. Як називається сонячна радіація, що надходить до місця спостереження у вигляді пучка паралельних променів безпосередньо від сонячного диска?

- А поглинута
- Б відбита
- В сумарна
- Г пряма

105. Розгляньте схеми й визначте, яка із них відображає процес, що формує в Україні взимку мінливу вітряну погоду з відлигами й опадами.



106. Визначте середньосічну температуру повітря на вершині, абсолютна висота якої 1500 м, якщо біля її підніжжя цей показник  $+4^{\circ}\text{C}$ .

- А  $+1^{\circ}\text{C}$ ;
- Б  $-4^{\circ}\text{C}$ ;
- В  $-6^{\circ}\text{C}$ ;
- Г  $-8^{\circ}\text{C}$ .

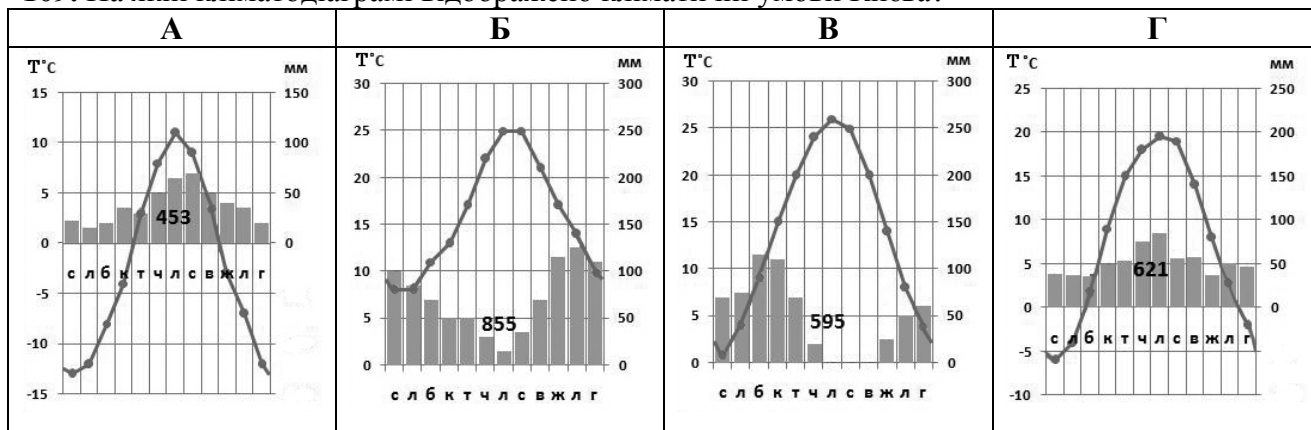
107. Визначте середньосічну температуру повітря на Ай-Петрінській яйлі (абсолютна висота – 1346 м), коли відомо, що біля підніжжя в селищі Місхор (Ялта) цей показник становить  $+4^{\circ}\text{C}$ .

- А  $+2^{\circ}\text{C}$
- Б  $-6^{\circ}\text{C}$
- В  $-4^{\circ}\text{C}$
- Г  $-8^{\circ}\text{C}$

108. Як змінюється середньорічна кількість опадів на рівнинній частині України?

- А збільшується з північного заходу на південний схід
- Б зменшується з північного заходу на південний схід
- В однакова на всій території України
- Г зменшується з півдня на північ

109. На якій кліматограмі відображено кліматичні умови Києва?

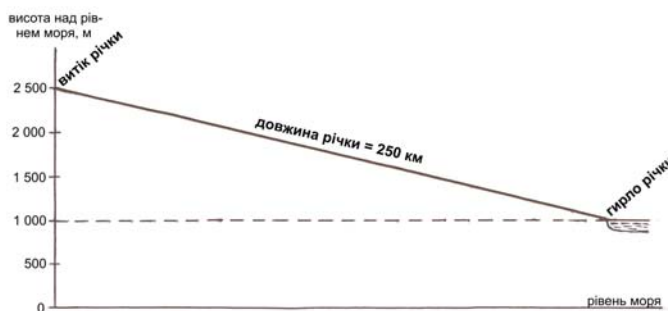


110. Яка поведінка тварин влітку вважається ознакою покращення погоди в Україні?

- А павуки плетуть павутину
- Б мурахи ховаються в мурашник
- В ластівки літають низько над землею
- Г бджоли вранці гудуть у вулику і не вилітають

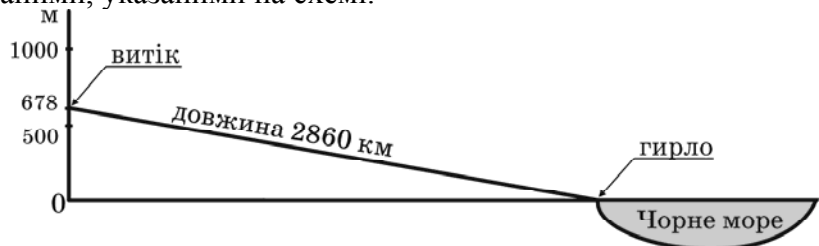
111. Визначте похил річки, скориставшись даними профілю її течії

- А м/км
- Б 14 м/км
- В 10 м/км
- Г 6 м/км



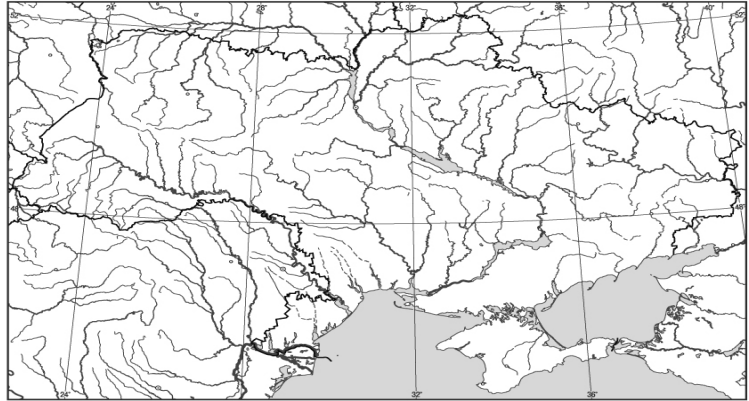
112. Визначте похил р. Дунай за даними, указаними на схемі.

- А 0,24 м/км
- Б 4,22 км/м
- В 0,24 км/м
- Г 4,22 м/км



113. Розгляньте карту й визначте, у якої із указаних нижче річок річковий стік лише з території України.

- А Західний Буг
- Б Південний Буг
- В Сіверський Донець
- Г Дністер




114. До басейну якої річки відносяться притоки: Збруч, Серет, Лімниця, Стрий?

- А Дністер
- Б Дунай
- В Дон
- Г Дніпро

115. До басейну якої річки відносяться притоки: Тетерів, Рось, Псел, Інгулець?

- А Дністер
- Б Дунай
- В Дон
- Г Дніпро

116. Якою буквою на космічному знімку позначено частину акваторії Чорного моря, де проходить Кавказька течія?



117. Укажіть ознаку, що відрізняє Чорне море від інших морів світу?

- А найменша солоність поверхневих вод
- Б найбільші припливи та відпливи
- В максимальні глибини не перевищують 200 м, тому що море знаходиться на шельфі
- Г з глибини 150-200 м до дна моря вода насичена сірководнем

118. Серед особливостей природи морів Азово-Чорноморського басейну укажіть ту, що є характерною лише для Азовського моря.

- А один вид дельфінів
- Б наявність нафти та газу на шельфі
- В поверхневі течії
- Г піщані коси біля північного берега

119. Яка причина збільшення солоності води в Азовському морі?

- А надходження забруднених вод річок Кальміус і Молочної
- Б збільшення густоти популяції медуз і риби в морі
- В збільшення витрат кисню у воді під час розкладу органіки
- Г інтенсивне зрошення в долинах Дону та Кубані

120. Яка одиниця фізико-географічного районування України має назву Східно-Європейська рівнина?

- А область
- Б країна
- В зона
- Г край

121. Користуючись картосхемою, виберіть варіант відповіді, де вказано адміністративні області України, через які проходить межа між лісостепом і степом.

- А Волинська, Житомирська, Чернігівська
- Б Херсонська, Дніпропетровська, Луганська
- В Миколаївська, Кіровоградська, Харківська
- Г Львівська, Чернівецька, Одеська



————— межі адміністративних одиниць  
 = = = = = межі природних зон і країн

122. Визначте регіон України, для якого є типовими подані в таблиці ґрунти, рослини і тварини.

Ґрунти	Рослини	Тварини
бурі, сіро-бурі, дерново-буроземні	бук, ялиця, ялина, ялівець, сосна сланка	олень благородний, ведмідь бурий, глухар

- А Карпати
- Б Крим
- В Полісся
- Г Поділля

123. Для якого географічного об'єкта України характерні лучнолісові субальпійські (полонинські) ландшафти?

- А Крим
- Б Карпати
- В Донецький кряж
- Г Середньоруська височина

124. Для якого регіону України типовими є сухостепові сопкові, сухостепові рівнинно-височинні, лісостепові (дубово-грабові шиблякові передгірні), лучні остепнені (яйлинські), субсередземноморські прибережно-схилові ландшафти?

- А Крим
- Б Закарпаття
- В Приазов'я
- Г Поділля

125. Укажіть природний заповідник лісостепової зони України.

- А Опукський;
- Б Дніпровсько-Орільський;
- В Канівський;
- Г Рівненський.

126. Які природно-заповідні об'єкти є національними природними парками?

- А Канівський, Поліський, Кримський
- Б Чорноморський, Асканія-Нова, Дунайський
- В Софіївка, Тростянецький, Веселі Боковеньки
- Г Шацький, Синевир, Святі Гори

127. Укажіть природні заповідники лісостепової зони України.

- А Карадазький, Мис Март'ян
- Б Дніпровсько-Орільський, Луганський
- В Канівський, Медобори
- Г Поліський, Рівненський

128. Укажіть заповідні об'єкти в Україні, що мають статус біосферних заповідників.

- А Азово-Сиваський, Яворівський, Святі Гори
- Б Чорноморський, Карпатський, Дунайський
- В Дністровський каньйон, Печенізьке поле, Голосіївський
- Г Карадазький, Опукський, Мис Март'ян

129. Для яких регіонів України характерні несприятливі природні процеси: селі, лавини, землетруси?

- А Карпати, Кримські гори
- Б Поділля, Полісся
- В Донбас, Придніпров'я
- Г Сіверщина, Придністров'я

130. Які меліоративні заходи необхідно застосувати для зменшення кислотності ґрунту?

- А фізичні
- Б хімічні
- В гідротехнічні
- Г біологічні

131. Для характеристики якої групи ресурсів використовують такі показники: теплозабезпеченість, ступінь зволоженості, континентальність клімату?

- А рекреаційні
- Б агрокліматичні
- В водні
- Г енергетичні