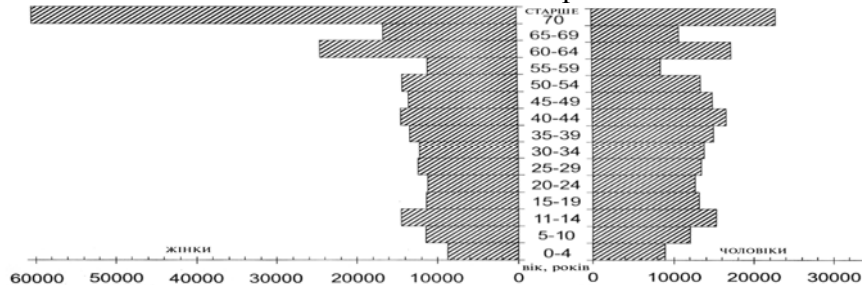


132. Унаслідок чого виникає депопуляція населення в державі?

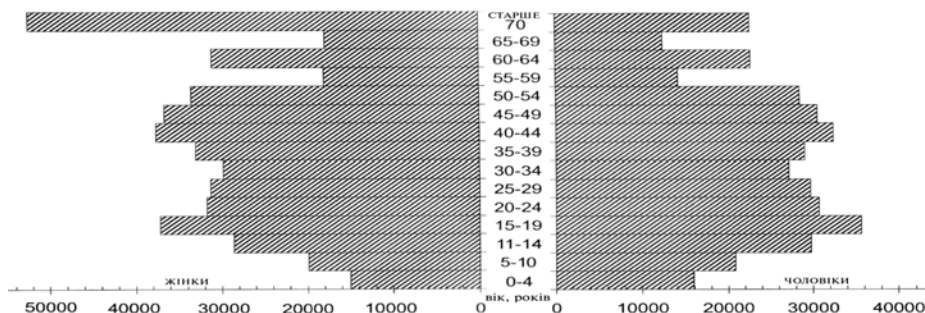
- А переважання іммігрантів над емігрантами
- Б однакова кількість іммігрантів та емігрантів
- В смертність більша за народжуваність і від'ємне сальдо міграції
- Г незначний природний приріст і додатне сальдо міграції

133. Проаналізуйте піраміду статеві-вікової структури населення та визначте правильне твердження про сільське населення однієї з областей України.



- А Чоловіче населення за кількістю поступається жіночому в усіх вікових групах.
- Б Жіноче населення переважає у віковій групі від 50 років і більше.
- В 1/3 жителів – діти та підлітки.
- Г «Старіння нації», на відміну від інших областей, не відбувається.

134. Проаналізуйте піраміду статеві-вікової структури населення. Визначте правильне твердження про міське населення однієї з областей України



- А Жіноче населення за кількістю поступається чоловічому в усіх вікових групах.
- Б Найбільша різниця кількості жінок і чоловіків у віці понад 70 років.
- В Половина населення області – дитячого та підліткового віку.
- Г Серед дітей віком до чотирьох років значно більше дівчаток.

135. Яке з перелічених нижче міст України має найбільшу кількість населення?

- А Маріуполь
- Б Кривий Ріг
- В Вінниця
- Г Чернівці

136. Якому поняттю відповідає визначення: «встановлення виробничих взаємозв'язків між спеціалізованими підприємствами, що спільно працюють над виробництвом складної продукції»?

- А кооперування
- Б спеціалізація
- В концентрація
- Г комбінування

137. Укажіть форму організації виробництва, що має визначення: «поєднання на одному підприємстві всіх стадій переробки певної сировини, що забезпечує мало- або безвідходність виробництва».

- А кооперування
- Б спеціалізація
- В концентрація
- Г комбінування

138. Для якого поняття характерне таке визначення: «сукупність підприємств і установ, які виробляють однорідну продукцію або задовольняють однорідні потреби суспільства»?

- А комбінування виробництва
- Б концентрація виробництва
- В інфраструктура
- Г галузь господарства

139. Установіть правильне твердження про особливості Донецького вугільного басейну.

- А Низька собівартість вугілля через складний видобуток та низьку калорійність.
- Б У місцях вуглевидобутку формується антропогенний рельєф.
- В Донбас простягається на території трьох держав.
- Г Відкритий спосіб вуглевидобутку переважає над шахтним

140. Біля якої з атомних електростанцій України знаходиться місто Енергодар?

- А Хмельницької
- Б Рівненської
- В Південноукраїнської
- Г Запорізької

141. Яка з атомних електростанцій має місто-супутник Нетішин?

- А Хмельницька
- Б Рівненська
- В Південноукраїнська
- Г Запорізька

142. Яка ознака є характерною для металургії України?

- А більше половини чорних металів виплавляється в електропечах через дешеву гідроенергію
- Б марганцеві руди для чорної металургії видобувають на Правобережжі та Лівобережжі
- В у кольоровій металургії використовується винятково вітчизняна рудна сировина
- Г території металургійних центрів за ступенем забруднення належать до умовно чистих

143. Які чинники вплинули на формування Нікопольського металургійного центру?

- А наявність місцевої сировини
- Б наявність місцевої сировини та палива
- В розташування майже посередині між джерелами сировини та палива
- Г розташування на річці Дніпро, що є транспортним шляхом для постачання сировини та палива

144. Яка стадія виробництва алюмінію пропущено в логічному ланцюжку: «видобуток бокситів → ...? → виробництво чистого алюмінію»?
- А виробництво смол
 - Б виробництво глинозему
 - В рафінування міді
 - Г виробництво феросплавів
145. Визначте провідний чинник, що впливає на розміщення підприємств сільськогосподарського машинобудування.
- А енергетичний
 - Б екологічний
 - В водний
 - Г споживчий
146. Укажіть продукцію хімічної промисловості, для розміщення виробництва якої провідними чинниками є водні та трудові ресурси?
- А хімічне волокно
 - Б калійні добрива
 - В шини
 - Г лаки і фарби
147. Які з указаних міст є центрами нафтопереробної промисловості в Україні?
- А Львів, Луцьк, Черкаси
 - Б Слов'янськ, Рівне, Суми
 - В Надвірна, Кременчук, Лисичанськ
 - Г Кривий Ріг, Маріуполь, Краматорськ
148. Який вид продукції основної хімії виробляється в містах Черкаси, Рівне, Одеса, Северодонецьк, Дніпродзержинськ.
- А калійні добрива
 - Б азотні добрива
 - В фосфатні добрива
 - Г сода
149. Укажіть сферу виробництва, що є спеціалізацією Лисичансько-Рубіжанського промислового вузла.
- А видобуток вугілля
 - Б виробництво кольорових металів та їх сплавів
 - В виробництво продуктів хімічної промисловості
 - Г лісозаготівля, деревообробка та лісохімічне виробництво
150. Серед переліку міст, пов'язаних із переробкою деревної сировини, укажіть групу міст – центрів целюлозно-паперової промисловості.
- А Корюківка, Ізмаїл, Понінка, Жидачів
 - Б Чернівці, Донецьк, Суми, Вінниця
 - В Перечин, Свалява, Вигода, Великий Бичків
 - Г Берегомет, Надвірна, Стрий, Ковель

151. Визначте правильний варіант виробничого ланцюга:

галузь → підприємство → основний чинник розміщення для столиці України.

- А харчова промисловість → кондитерська фабрика «Світоч» → споживач
- Б машинобудування → авіазавод КНТК «Антонов» → кваліфіковані кадри
- В лісова промисловість → швейна фабрика «Каштан» → трудові ресурси
- Г хіміко-фармацевтична промисловість → фармацевтична фірма «Дарниця» → вода

152. Виберіть правильний варіант ланцюга виробництва продукції в Україні «місто – галузь – підприємство – продукція – чинник розміщення».

	Місто	Галузь	Підприємство	Продукція	Фактор розміщення
А	Миколаїв	кольорова металургія	глиноземний завод	глинозем	транспортний
Б	Житомир	легка	льонокомбінат	одяг	сировинний
В	Київ	харчова	кондитерська фабрика	тістечка	науковий
Г	Запоріжжя	чорна металургія	титаномагнієвий комбінат	титан	гідроенергетичний

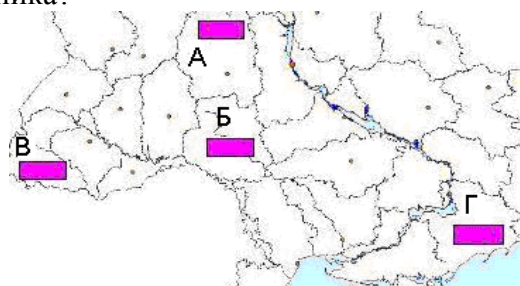
153. Визначте рядок із правильним поєднанням даних про підприємство машинобудівної галузі України в ланцюзі: «місто – підприємство – продукція – основний фактор розміщення».

	Місто	Підприємство	Продукція	Основний фактор розміщення
А	Ужгород	Концерн «Лан»	зернозбиральні комбайни	споживач
Б	Черкаси	Концерн «Черкаський автобус»	маршрутні автобуси	траса газопроводу
В	Харків	КНТК«Антонов»	літаки	наукова база
Г	Краматорськ	«Новокраматорський машзавод»	ковальсько-пресове устаткування	металургійна база

154. Визначте правильне твердження щодо сільськогосподарської культури в Україні, валовий збір зерна якої становить понад 50%?

- А Яра пшениця переважно вирощується в тій природній зоні, де й льон-довгунець.
- Б Валовий збір пшениці в країні менший, ніж жита.
- В Рис – головна зернофуражна культура.
- Г Площа ріллі під ячменем менша, ніж під озимію пшеницею.

155. Який із позначених на картосхемі буквами регіонів України за агрокліматичними умовами найбільш придатний для вирощування соняшника?

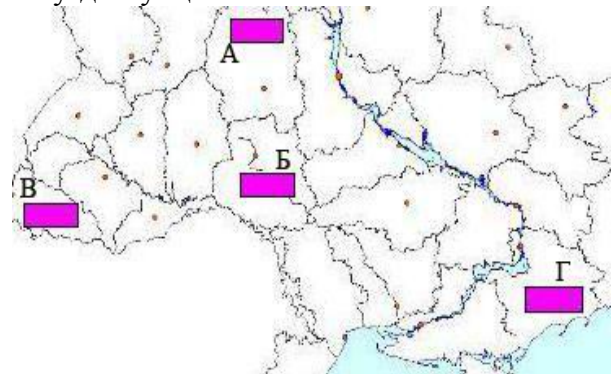


156. Площі посівів якої культури в Україні відображено на карті?

- А соя
- Б соняшник
- В цукровий буряк
- Г льон-довгунець



157. Визначте, який із позначених буквами регіонів України (див. мал.) за агрокліматичними умовами найбільш придатний для вирощування льону-довгунця.



158. Укажіть правильне твердження про соціальну сферу в Україні.

- А Територіальних відмінностей у галузевій структурі сфери немає.
- Б Задовольняє духовні та матеріальні потреби населення.
- В Рівень розвитку сфери в аграрних регіонах вищий, ніж у промислових.
- Г Основною продукцією сфери є сільськогосподарські знаряддя праці.

159. Які міста є найбільшими науковими центрами України?

- А Київ, Львів
- Б Одеса, Дніпропетровськ
- В Донецьк, Харків
- Г Харків, Київ

160. Як називаються антропогенні та природні об'єкти і явища, що використовуються для відновлення та розвитку фізичних і духовних сил людини?

- А технополіси
- Б мінеральні ресурси
- В рекреаційні ресурси
- Г виробнича інфраструктура

161. У якому рядку вказано міста України, що стали курортами завдяки лікувальним властивостям мінеральних джерел?

- А Макіївка, Охтирка, Шостка
- Б Чугуїв, Черкаси, Чернівці
- В Слов'янськ, Моршин, Саки
- Г Джанкой, Ізмаїл, Маріуполь

162. Виберіть населені пункти України, що стали курортами завдяки джерелам мінеральних вод із лікувальними властивостями.
- А Батурин, Глухів, Чигирин
 - Б Торчин, Малин, Лебедин
 - В Хмільник, Слов'янськ, Свалява
 - Г Ковель, Конотоп, Синельникове
163. Які транспортні шляхи було прокладено у 1861 р. між Львовом і Перемишлем, а в 1865 р. – між Одесою і Балтою?
- А судноплавні канали
 - Б газопроводи
 - В залізничні колії
 - Г шосейні дороги
164. Виберіть правильне твердження щодо транспорту України.
- А Найвищу собівартість перевезень має авіаційний транспорт.
 - Б Найдовші каботажні перевезення здійснюються між Іллічівськом та Ялтою.
 - В Головну роль у внутрішньоекономічних зв'язках відіграє річковий транспорт.
 - Г Основний недолік трубопровідного транспорту – залежність від погоди.
165. Укажіть порт на Азовському морі.
- А Іллічівськ
 - Б Очаків
 - В Генічеськ
 - Г Феодосія
166. Укажіть, як називається процес переміщення нафти з Росії в країни ЄС територією України.
- А магістраль
 - Б каботаж
 - В транзит
 - Г вантажообіг
167. Укажіть правильне твердження щодо зовнішньоекономічних зв'язків України.
- А Імпортні витрати на нафту та природний газ складають 10%.
 - Б Найбільша частка транспортних послуг надається країнам СНД.
 - В Найбільше товарів експортується до США, Норвегії, Франції.
 - Г Природно-історичний чинник не впливає на надання послуг іноземним туристам.
168. Укажіть елементи територіальної структури господарства.
- А целюлозно-паперова фабрика, коксохімічний завод, навчально-виховний заклад
 - Б приватне підприємство, фермерське господарство, кооператив
 - В промисловий центр, сільськогосподарська зона, економічний район
 - Г виробнича інфраструктура, соціальна сфера, зовнішня торгівля
169. Який із промислових центрів не знаходиться в Донецькому економічному районі?
- А Кременчук
 - Б Макіївка
 - В Маріуполь
 - Г Алчевськ

170. Визначте, у якому промисловому вузлі діють такі підприємства: суднобудівний завод, глиноземний завод, ЗАО «Лакталіс-Україна» (продукція торгової марки Prezident), ООО «Сандора» (виробництво соків).

- А Миколаїв
- Б Київ
- В Одеса
- Г Маріуполь

171. Який економічний район України є одним із найбільших за кількістю населення в країні, має потужний промисловий комплекс, спеціалізується на вугільній, металургійній, хімічній, машинобудівній, енергетичній галузях промисловості?

- А Північно-Східний
- Б Столичний
- В Донецький
- Г Карпатський

172. Яке із указаних міст-курортів знаходиться в Донецькій області?

- А Слов'янськ
- Б Миргород
- В Свалява
- Г Моршин

173. Укажіть варіант, де обидва виробництва є спеціалізацією Північно-Східного, Донецького та Придніпровського районів.

- А металообробка, лісозаготівля
- Б тонкорунне вівчарство, виноградарство
- В важке машинобудування, металургія
- Г нафтопереробка, льонарство

174. Укажіть економічний район, де в переліку продукції галузей спеціалізації є хоча б одна, що не характерна для його спеціалізації.

	Економічний р-н	Продукція галузей спеціалізації
А	Центральний	комбайни, буре вугілля, азотні добрива
Б	Причорноморський	олія, морські судна, рибні консерви
В	Столичний	літаки, річкові судна, цукерки
Г	Подільський	цукор, річкові судна, фосфатні добрива

175. Визначте економічний район, що спеціалізується на виробництві літаків, вантажних автомобілів, нафтопродуктів, поліграфічної продукції.

- А Подільський
- Б Карпатський
- В Столичний
- Г Північно-Східний

176. У якому економічному районі знаходяться популярні туристські об'єкти – пам'ятки культури України: дендропарк «Олександрія», Софійський собор, історико-культурний заповідник «Качанівка», меморіальний музей С. П. Корольова?

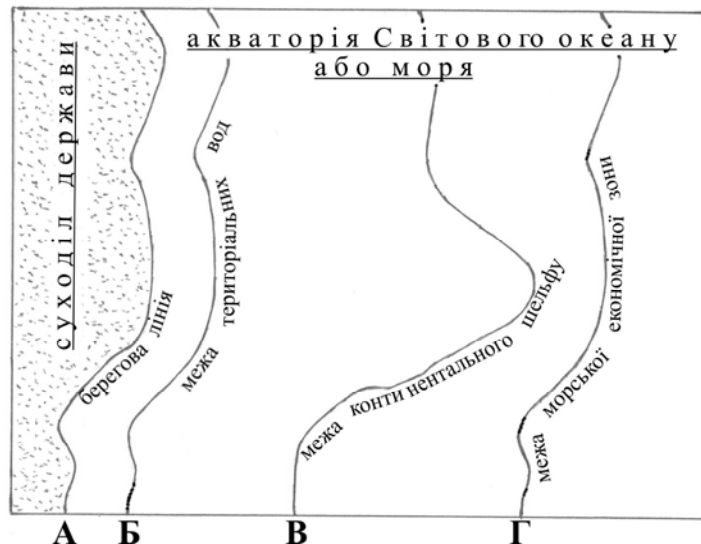
- А Столичний
- Б Карпатський
- В Центральний
- Г Подільський

177. Членом якої міжнародної організації є Україна?

- А ЄС
- Б ООН
- В НАТО
- Г НАФТА

Економічна і соціальна географія світу

178. Якою буквою на схемі позначено лінію делімітації державного кордону?



179. Як називається акваторія моря, що перебуває під контролем прибережної держави на відстані 200 морських миль від берега?

- А виключна економічна зона
- Б територіальні води
- В відкрите море (відкритий водний простір)
- Г внутрішні води

180. Виберіть варіант, у якому обидві названі країни є федеративними республіками.

- А Бразилія, Японія
- Б Австрія, Швеція
- В Росія, Індія
- Г Канада, Марокко

181. У якому рядку вказано країни, де хоча б одна не входить до складу ЄС?

- А Австрія, Швейцарія, ФРН
- Б Греція, Італія, Фінляндія
- В Швеція, Данія, Латвія
- Г Болгарія, Угорщина, Польща

182. У якому рядку вказано групу країн ЄС, де хоча б одна країна не є членом НАТО?

- А Бельгія, Нідерланди, Люксембург
- Б Італія, Іспанія, Польща
- В Австрія, Греція, Данія
- Г Естонія, Латвія, Литва

183. Які країни входять до НАТО і не є членами ЄС?

- А Португалія, Іспанія, Італія
- Б Ісландія, Туреччина, Норвегія
- В Велика Британія, Бельгія, Нідерланди
- Г Австрія, Чехія, Литва

184. Укажіть міжнародну організацію, членом якої є Азербайджан.

- А НАФТА
- Б ОПЕК
- В ГУАМ
- Г АСЕАН

185. Обчисліть, якою стала кількість населення 100-мільйонної країни через рік, якщо показники руху населення в цьому році були такими: народжуваність – 35 ‰, смертність – 18 ‰, еміграція – 3 ‰, імміграція – 1 ‰.

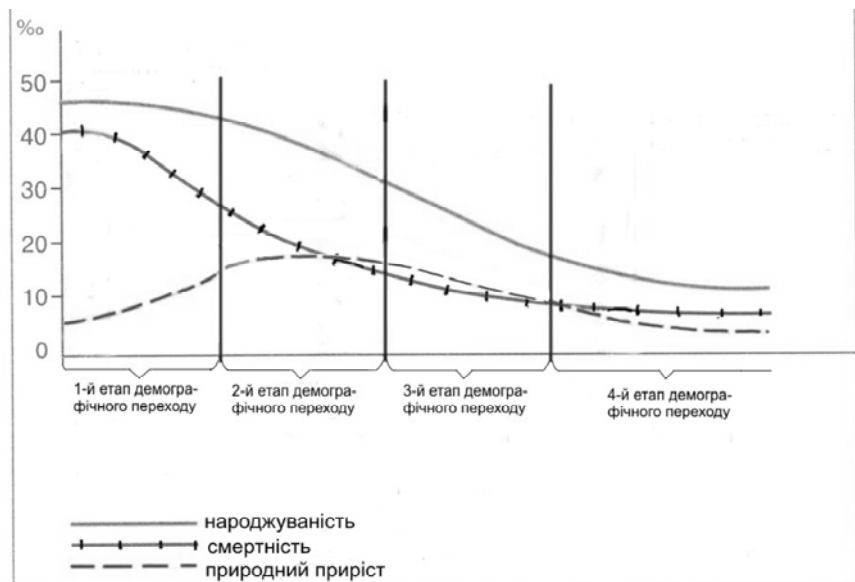
- А 100,5 млн осіб
- Б 101,5 млн осіб
- В 102,5 млн осіб
- Г 103,5 млн осіб

186. Обчисліть, якою стала кількість населення 100-мільйонної країни через рік (у млн осіб) якщо показники руху населення в цьому році були такими: народжуваність – 39 ‰, смертність – 16 ‰, еміграція – 1 ‰, імміграція – 3 ‰.

- А 100,5 млн
- Б 101,5 млн
- В 102,5 млн
- Г 103,5 млн

187. Розгляньте графік і визначте етап демографічного переходу, для якого характерний “демографічний вибух”.

- А перший
- Б другий
- В третій
- Г четвертий



188. Укажіть правильне твердження про населення країн «великої сімки».

- А Низький рівень урбанізації та високі її темпи.
- Б Переважання частки зайнятих у сільському господарстві.
- В Низький та від’ємний показники природного приросту.
- Г Незначна частка зайнятих у сфері послуг.

189. На фотографіях зображено визначні об'єкти чотирьох столиць країн світу. Укажіть об'єкт тієї столиці, яка за кількістю населення є **не** найбільшим містом у своїй країні.

А	Б	В	Г
			
Колізей	Біг-Бен	Капітолій	Кремль

190. Яка мова є панівною у більшості країн Латинської Америки?

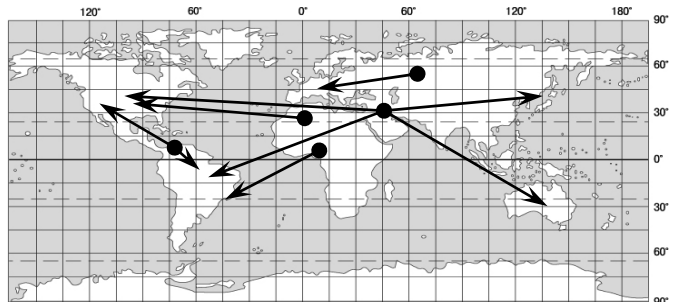
- А португальська
- Б англійська
- В іспанська
- Г латинська

191. Яка релігія є найбільш поширеною в Іспанії та Італії?

- А православ'я
- Б індуїзм
- В протестантизм
- Г католицизм

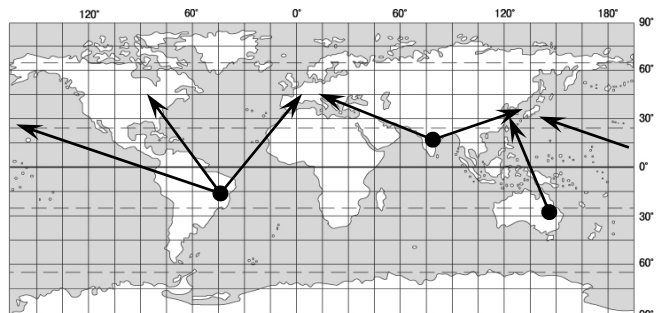
192. Розгляньте картосхему. За напрямками міжнародних вантажопотоків визначте корисну копалину.

- А кам'яне вугілля
- Б боксити
- В залізна руда
- Г нафта



193. Визначте корисну копалину, міжнародні вантажопотоки якої відображено на картосхемі.

- А кам'яне вугілля
- Б мідна руда
- В залізна руда
- Г нафта



194. Характерною ознакою епохи НТР є

- А підвищення частки зайнятих у виробничій сфері
- Б витіснення індустрії «авангардної трійки» аграрним виробництвом
- В зниження ролі ресурсного фактора в розміщенні виробництва
- Гз ниження ролі невиробничої сфери в економіці

195. Визначте тип країн, у структурі економіки яких значно переважає частка вторинного сектора економічної діяльності?

- А аграрні
- Б аграрно-індустріальні
- В індустріально-аграрні
- Г постіндустріальні

196. Укажіть, якою із форм зовнішньоекономічних зв'язків є витрати шведських підприємців для

придбання засобів виробництва та організації ЗАТ Компанія «Чумак» у Херсонській області.

- А зовнішня торгівля (реалізація товарів)
- Б міжнародний ринок капіталу (рух міжнародних інвестицій)
- В світовий валютний ринок (обіг грошей)
- Г міжнародний ринок послуг (послуги)

197. У якому регіоні світу транспортні системи країн мають найгустішу мережу шляхів сполучення?

- А Західна та Центральна Європа
- Б Північна Америка
- В країни СНД
- Г Латинська Америка

198. За якою ознакою можна об'єднати в одну групу такі країни: США, Канада, Німеччина, Франція, Росія, Казахстан, Японія?

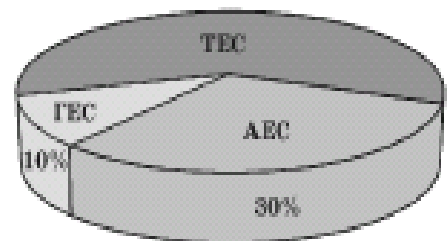
- А їхні території повністю або частково розташовані в помірних широтах
- Б утворюють "велику сімку" економічно розвинутих країн світу
- В мають безпосередній вихід до узбережжя Світового океану
- Г складають першу сімку найбільших за розмірами територій країн світу

199. Завдяки якому чиннику хімічна промисловість США, Японії, ФРН знаходиться в авангарді світового господарства?

- А забезпеченість дешевою електроенергією
- Б вигідне економіко-географічне положення
- В забезпеченість різноманітною власною мінеральною сировиною
- Г високий рівень науково-дослідної бази

200. Розгляньте діаграму співвідношення виробленої енергії різними типами електростанцій країни, що імпортує 4/5 енергоресурсів. Укажіть цю країну.

- А Франція
- Б Норвегія
- В Японія
- Г Литва



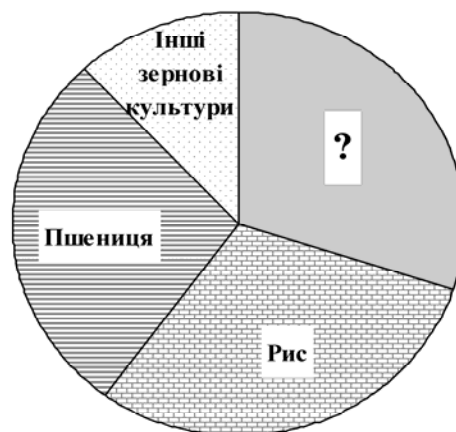
- 201.** Укажіть тип електростанцій, на яких виробляється найбільша частка електроенергії Франції.
- A** ТЕС
 - Б** АЕС
 - В** ПЕС
 - Г** ГЕС
- 202.** Яка країна є одним із світових лідерів за експортом нафти та природного газу?
- A** Австралія
 - Б** Ізраїль
 - В** Росія
 - Г** США
- 203.** Який регіон Росії спеціалізується на нафтовидобутку та нафтопереробці?
- A** Східний Сибір
 - Б** Західний Сибір
 - В** Центральне Чорнозем'я
 - Г** Північ Далекого Сходу
- 204.** Укажіть металургійну базу, формування якої було зорієнтовано на вугільний басейн.
- A** Рур (ФРН)
 - Б** Урал (Росія)
 - В** Мінас-Жерайс (Бразилія)
 - Г** Кіруна (Швеція)
- 205.** Укажіть металургійну базу, формування якої було зорієнтовано на розміщення залізорудного басейну.
- A** Рур
 - Б** Сілезія
 - В** Піттсбург
 - Г** Урал
- 206.** Яка з європейських країн є лідером з виробництва легкових автомобілів?
- A** Велика Британія
 - Б** ФРН
 - В** Іспанія
 - Г** Італія
- 207.** Яке місто Росії є центром морського суднобудування?
- A** Санкт-Петербург
 - Б** Нижній Новгород
 - В** Красноярськ
 - Г** Єкатеринбург
- 208.** Для якої групи країн характерний екстенсивний тип ведення сільського господарства?
- A** Австрія, Швейцарія, Швеція
 - Б** Афганістан, Бангладеш, Пакистан
 - В** Велика Британія, Нідерланди, Бельгія
 - Г** Чехія, Угорщина, Польща

209. У якій країні у структурі сільськогосподарських угідь частка пасовищ і луків значно більша, ніж орних земель?

- А Україна
- Б Франція
- В Індія
- Г Австралія

210. Частку збору певної сільськогосподарської культури у структурі світового виробництва зерна відображено на діаграмі суцільним сірим кольором. Яка це культура?

- А кукурудза
- Б ячмінь
- В овес
- Г жито



211. Країна, природні умови якої дозволяють вирощувати в промислових масштабах цукровий буряк і цукрову тростину:

- А Єгипет
- Б Росія
- В Франція
- Г США

212. У якій країні природні умови дозволяють вирощувати в промислових масштабах і цукровий буряк, і цукрову тростину.

- А Китай
- Б Індія
- В Афганістан
- Г Польща

213. Одним з основних шляхів здійснення регіональної політики в країнах Європейського Союзу є залучення інвестицій з більш розвинутих регіонів держави в менш розвинуті. Укажіть географічний напрямок інвестицій, що характерний для регіональної політики Італії.

- А захід → схід
- Б схід → захід
- В північ → південь
- Г південь → північ

214. У якій країні знаходиться «індустріальне серце – Приозер'я», де вперше виробництво автомобілів було поставлено на конвеєр?

- А Японія
- Б США
- В Італія
- Г Канада

215. У якому регіоні США знаходиться 2/3 запасів деревини країни, найбільша ГЕС Гранд-Кулі на р. Колумбія, у головному місті Сіетлі – аерокосмічна компанія «Боїнг» та електронна компанія «Майкрософт»?

- А Приозер'я
- Б Тихоокеанський Північний Захід
- В Атлантичне узбережжя
- Г Південь

216. У якому регіоні США знаходиться мегалополіс Сансан?

- А Каліфорнія
- Б Приозер'я
- В Гірські Штати
- Г Тихоокеанський Північний Захід

217. У якій країні на незначній території узбережжя Тихого океану зосереджено основну промислову базу, де підприємства металургійної, хімічної та інших галузей промисловості виробляють експортну продукцію, використовуючи імпортовану сировину та новітні технології?

- А Австралія
- Б Росія
- В США
- Г Японія

218. Що призвело до того, що Китай за економічним потенціалом і ВВП знаходиться в першій десятці країн світу?

- А Різке скорочення військового виробництва та переорієнтація його на виробництво сільськогосподарських машин і гірничого устаткування.
- Б Проведення системних економічних реформ і політики «відкритих дверей».
- В Здійснення політики «великого стрибка» та «культурної революції».
- Г Повна заміна вугілля в паливно-енергетичному балансі на газ та уран.

219. За видобутком кам'яного вугілля Китай випереджає всі країни світу й нарощує обсяги його виробництва. Що цьому сприяє?

- А традиційна “вугільна” орієнтація енергетики, що пов'язано зі значними запасами вугілля та зростаючими потребами господарства
- Б переорієнтація енергетики на “вугільну” через виснаження родовищ нафти й природного газу та відсутність інших джерел енергії
- В постійно зростаючий експорт вугілля, що є основним джерелом надходження валюти
- Г збільшення виробництва електроенергії на теплових електростанціях для експорту у сусідні країни.

220. У якому історико-географічному районі Китаю господарський профіль визначають паливно-енергетичний, металургійний, лісопромисловий комплекси, багатогалузеве сільське господарство, а також міста Аньшань, Харбін, Далянь?

- А Північний Схід
- Б Центр
- В Південний Захід
- Г Південь

221. Яка країна Азії, де розвиваються аерокосмічні технології, атомна енергетика, радіоелектроніка, є членом ядерного клубу і постійним членом Ради безпеки ООН?

- А** Індія
- Б** Китай
- В** Ізраїль
- Г** Іран

222. Яка держава, надаючи фінансово-технологічну підтримку, сприяла розвитку машинобудування країн нової індустріалізації – «азіатських тигрів»?

- А** В'єтнам
- Б** Північна Корея
- В** Австралія
- Г** Японія

223. У якій із держав, що межує з Росією і має вихід до моря, переважає гірський рельєф, багатонаціональне населення, більшість корінного населення – православні, у сільському господарстві – рослинницька спеціалізація культур вологих субтропіків?

- А** Північна Корея
- Б** Азербайджан
- В** Грузія
- Г** Казахстан

224. Визначте помилкове твердження щодо регіонального лідерства країни Латинської Америки:

- А** Чилі має найбільші запаси мідної руди.
- Б** Аргентина лідирує за експортом зерна.
- В** Бразилія виробляє найбільше автомобілів.
- Г** Еквадор імпортує найбільше бананів.

225. Укажіть правильне твердження щодо лідерства країни в Латинській Америці.

- А** Чилі виробляє найбільше автомобілів.
- Б** Аргентина імпортує найбільше зерна.
- В** Бразилія має найбільші запаси мідної руди.
- Г** Еквадор експортує найбільше бананів.

226. Визначте правильне твердження щодо лідерства країни Латинської Америки в експорті певних видів товарів.

- А** Мексика експортує найбільше міді та бокситів.
- Б** Колумбія експортує найбільше зерна та яловичини.
- В** Перу експортує найбільше бананів та олова.
- Г** Бразилія експортує найбільше какао-бобів та кави.

227. Укажіть головний чинник того, що переважна більшість країн Африки належить до країн, що розвиваються.

- А** недостатньо мінеральної сировини та енергії промислових масштабів, низький показник ресурсозабезпеченості
- Б** несприятливі природні умови для розвитку сільського господарства та промисловості
- В** низький рівень розвитку продуктивних сил та характер матеріальних відносин у виробничій сфері.
- Г** віддаленість від економічно розвинутих країн світу

228. Який європейський курорт має вибрати сім'я, що планує відпочити на березі океану?

- А Маямі (США)
- Б Баден-Баден (ФРН)
- В Коста-Верде (Іспанія)
- Г Давос (Швейцарія)


229. Укажіть африканські курорти.

- А Баден-Баден, Карлові Вари, Балеарські острови
- Б Анталія, Дубаї, Мальдівські острови
- В Санта Барбара Лас-Вегас, Гавайські острови
- Г Хургада, Шарм-ель Шейх, Сейшельські острови

230. Якої спеціалізації набувають європейські центри Кембридж, Мюнхен, Ніцца?

- А туристсько-розважальні комплекси
- Б науково-дослідні парки
- В фінансові столиці
- Г біосферні заповідники


231. Укажіть, який із зображених історико-архітектурних туристських об'єктів знаходиться у столиці держави.



232. На території якої держави знаходяться визнані ЮНЕСКО об'єкти культурно-історичної спадщини: мавзолей Тадж-Махал, храм Сонця в Конараку?

- А Перу
- Б Японія
- В Австралія
- Г Індія

233. На фотографіях зображено визначні об'єкти чотирьох міст світу, один з яких знаходиться в столиці держави. Визначте, якою літерою він позначений.



234. Визначте продукцію, частка якої різко збільшилася у структурі світової торгівлі за останні 50 років.

- А рудна сировина
- Б сировина для легкої промисловості
- В продовольство
- Г продукція машинобудування

Завдання на встановлення відповідності

235. Установіть відповідність між назвами галузей географічних наук і предметом їхнього вивчення

- 1 соціальна географія
- 2 фізична географія
- 3 геоморфологія
- 4 гідрологія

А наука про просторові форми та процеси організації життя людей і виробництва – умов їхньої праці, відпочинку, побуту, розвитку особистості.

Б наука, що вивчає природні води, явища і процеси, що в них відбуваються

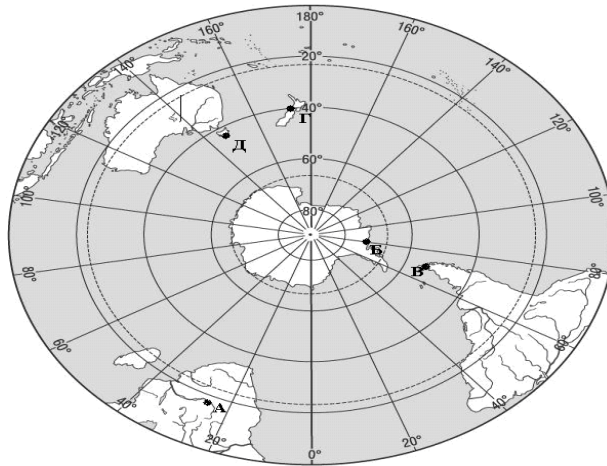
В наука про рельєф земної поверхні, що утворився в результаті постійної взаємодії внутрішніх і зовнішніх процесів

Г наука про географічну оболонку Землі, її склад, структуру, розвиток, особливості формування, просторову диференціацію

Д наука, що вивчає історію розвитку географічної оболонки й окремих ландшафтів за весь період їхнього існування, що передував сучасному

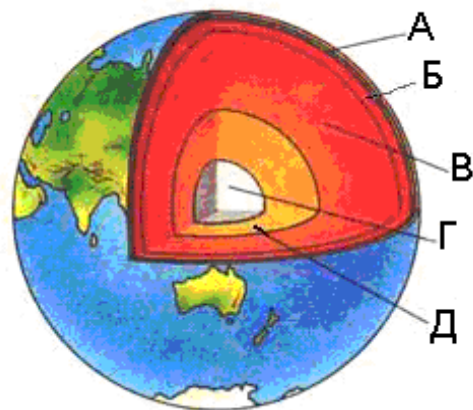
236. Установіть відповідність між мандрівниками та відкритими ними географічними об'єктами, що позначені на карті буквами.

- 1 Фернандо Магеллан
- 2 Давід Лівінгстон
- 3 Джеймс Кук
- 4 Фадей Беллінсгаузен



237. Установіть відповідність між шарами внутрішньої будови Землі та буквами, якими вони позначені на малюнку.

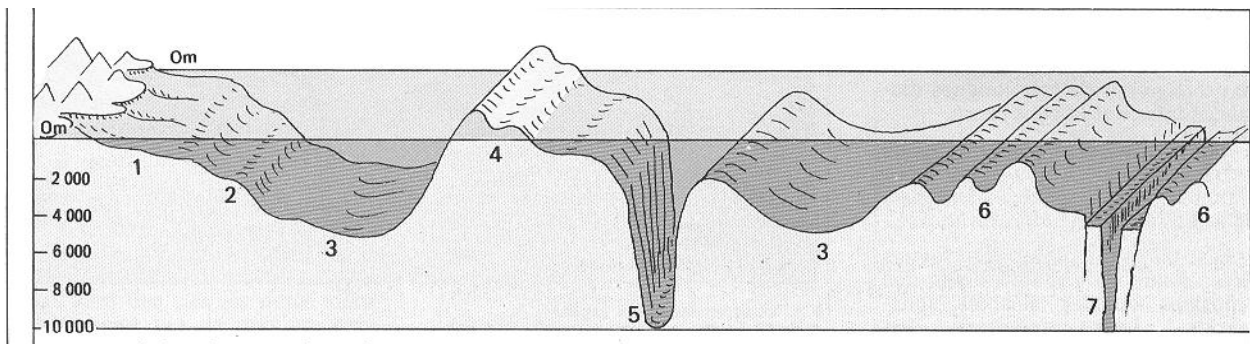
- 1 астеносфера
- 2 земна кора
- 3 внутрішнє ядро
- 4 мантія



238. Доберіть до визначень понять геотектоніки відповідні терміни.

- | | |
|--|-------------|
| 1 нижній ярус платформи, що утворений магматичними та метаморфічними породами | А плита |
| 2 верхній ярус платформи, що утворений осадовими породами | Б чохол |
| 3 ділянка платформи, де кристалічні породи нижнього ярусу перекриті осадовими відкладами | В фундамент |
| 4 ділянка платформи, де на поверхню виходять кристалічні породи | Г щит |
| | Д грабен |

239. Установіть відповідність між назвами форм дна океану та їхніми зображеннями, позначеними на схемі буквами.



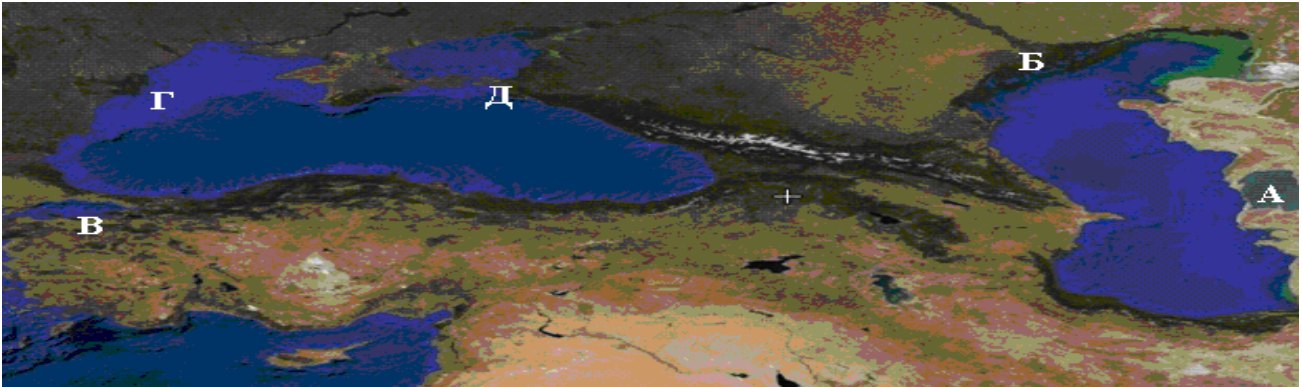
- 1 рифт
- 2 шельф
- 3 ложе океану
- 4 глибоководний жолоб

240. Установіть відповідність між назвами форм рельєфу та їхніми визначеннями.

- | | |
|--------------------|--|
| 1 гори | А ділянки земної поверхні, що високо підняті над навколишньою місцевістю, і мають дуже розчленований рельєф |
| 2 рівнини | Б скелясті виступи корінних порід, згладжені льодовиком |
| 3 материковий схил | В частина океанічного дна, що переходить від шельфу до ложа океану |
| 4 нагір'я | Г великі за площею ділянки гірських країн, що характеризуються поєднанням гірських хребтів і вирівняних ділянок, високо піднятих над рівнем моря |
| | Д це плоскі або горбисті великі простори суходолу і дна океану, на яких висоти сусідніх точок мало відрізняються одна від одної |

241. Установіть відповідність між характеристиками географічних об'єктів та їхніми зображеннями, що позначені на космічному знімку буквами.

- 1 затока Кара-Богаз-Гол, що є частиною найглибшого солоного озера
- 2 дельта найбільшої річки Європи
- 3 море, що сполучається з двома іншими морями протоками Босфор і Дарданелли
- 4 дельта річки, одним із рукавів якої є Кілійське гирло



242. Установіть відповідність між геосферами та їхніми компонентами.

- | | |
|--------------|-------------|
| 1 атмосфера | А сніг |
| 2 біосфера | Б озон |
| 3 гідросфера | В водорість |
| 4 літосфера | Г шосе |
| . | Д пісок |

243. Установіть відповідність між закономірностями географічної оболонки та їхніми характеристиками.

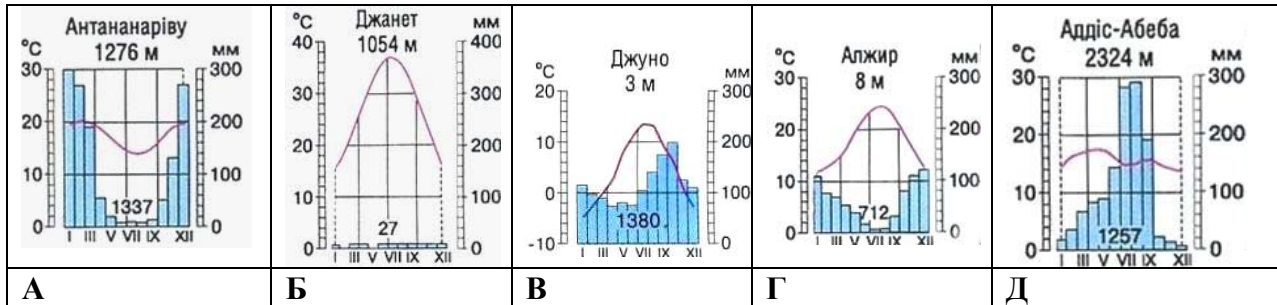
- | | |
|---------------|---|
| 1 цілісність | А періодичне або циклічне повторення в однаковій відповідності різних природних явищ і процесів |
| 2 ритмічність | Б неперервні спрямовані зміни процесів і явищ (розвиток), що супроводжуються багаторазовим перетворенням речовин та енергії |
| 3 зональність | В кожен компонент впливає на інші компоненти, а також залежать від них |
| 4. кругообіг | Г закономірна зміна ландшафтів обумовлена висотою над рівнем моря |
| | Д закономірна зміна природних комплексів від екватора до полюсів |

244. Установіть відповідність між назвами вітрів та островами, на клімат яких вони впливають упродовж року.

- | | |
|------------------|---------------------|
| 1 мусони | А о. Великобританія |
| 2 західні | Б Японські о-ви |
| 3 пасати | В о. Сицилія |
| 4 східні полярні | Г о. Мадагаскар |
| | Д о. Гренландія |

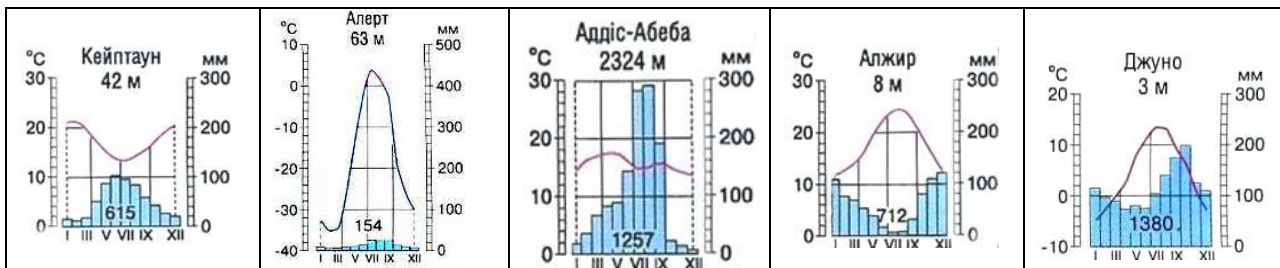
245. Установіть відповідність між типами клімату та кліматограмами.

- 1 субтропічний середземноморський Північної півкулі
- 2 морський помірний Північної півкулі
- 3 субекваторіальний Південної півкулі
- 4 тропічний пустельний Північної півкулі



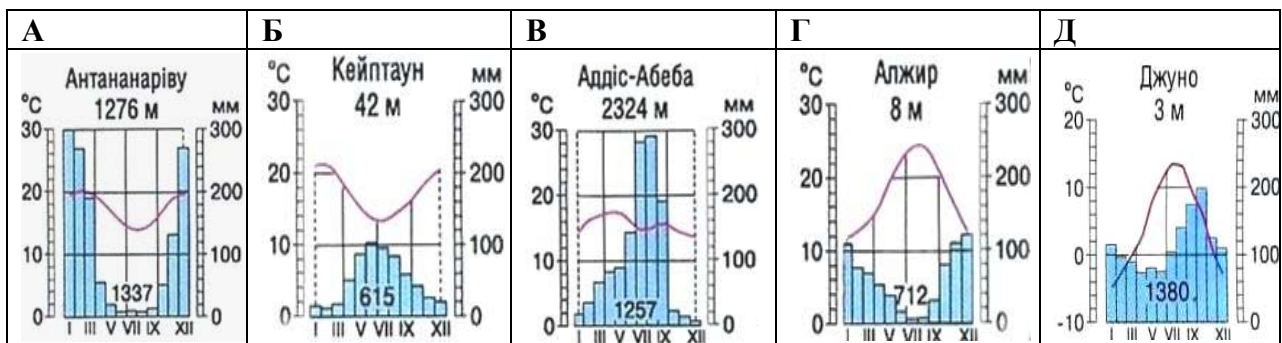
246. Установіть відповідність між типами клімату та кліматограмами.

- 1 полярний (арктичний) клімат
- 2 субтропічний середземноморський клімат Південної півкулі
- 3 субтропічний середземноморський клімат Північної півкулі
- 4 морський помірний клімат Північної півкулі



247. Установіть відповідність між типами клімату та кліматограмами.

- А субтропічний клімат Північної півкулі
- Б субтропічний клімат Південної півкулі
- В субекваторіальний клімат Північної півкулі
- Г субекваторіальний клімат Південної півкулі



248. Установіть відповідність між назвами творів, де подано географічний опис України, та часом їхнього написання.

- | | |
|--|-------------------|
| 1 «Географія» в 17-ти томах грецького мислителя Страбона | А 1989 – 1993 рр. |
| 2 «Труды этнографическо-статистической экспедиции вь Западно-Русскій край» у 7-ми томах етнографа Павла Чубинського | Б 1872 – 1879 рр. |
| 3 «Українська географічна енциклопедія» в 3-х томах (за редакцією члена-кореспондента НАН України Олександра Маринича) | В 1932 р. |
| 4 «Географія України і сумежних земель» картографа Володимира Кубійовича | Г Х ст. |
| | Д І ст. до н. е. |

249. Установіть відповідність між творами, де подано географічний опис України, та іменами авторів цих творів і часом їх створення.

- | | |
|---|----------------|
| 1 «Скіфія» грецького мислителя Геродота | Б Vст. до н.е. |
| 2 «Опис України» французького інженера, фахівця фортечних споруд Г. Л. де Боплана | В 1914 р. |
| 3 «Коротка географія України. Антропогеографія» фундатора української наукової географії академіка С. Рудницького | Г Х ст. |
| 4 «Національний атлас України» за редакцією члена-кореспондента НАН України Л. Руденка. | Д 2008 р |
- А 1660 р.

250. Установіть відповідність між іменами вчених-географів та їхніми науковими здобутками.

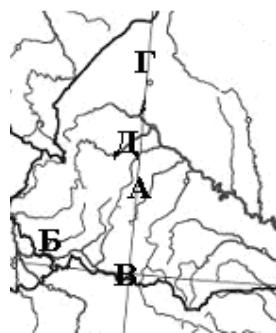
- | | |
|-----------------------|---|
| 1 Степан Рудницький | А основоположник наукового ґрунтознавства |
| 2 Володимир Кубійович | Б етнограф, один з організаторів Південно-Західного відділу Руського географічного товариства у Києві |
| 3 Василь Докучаєв | В видатний учений, який довів рівність рас |
| 4 Павло Чубинський | Г картограф, укладач багатотомної „Енциклопедії українознавства”, що була видана за межами України |
| | Д основоположник української наукової географії |

251. Установіть відповідність між рівнинами та формами земної поверхні, що характерні для цих рівнин на території України.









- | | |
|----------------------------|-----------------------------|
| 1 Поліська низовина | А моренні горби |
| 2 Придніпровська низовина | Б конуси грязьових вулканів |
| 3 Донецька височина | В терикони |
| 4 Причорноморська низовина | Г поди, блюдця |
| | Д соляні куполи |

252. Установіть відповідність між назвами родовищ корисних копалин та їхніми зображеннями, позначеними буквами на фрагменті контурної карти.

- 1 Долинське
- 2 Мужіївське
- 3 Солотвинське
- 4 Стебниківське

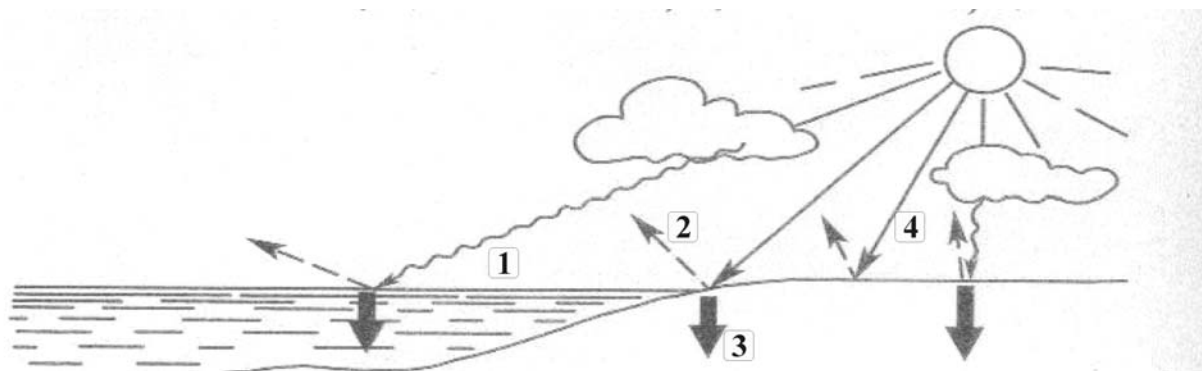


253. Установіть відповідність між мінеральними ресурсами, які позначено умовними знаками, і регіонами їхнього поширення в Україні.

- 1  
- 2  
- 3  
- 4  

- А Придніпров'я
- Б Прикарпаття
- В Полісся
- Г Закарпаття
- Д Поділля

254. Установіть відповідність між різновидами сонячної радіації, які на схемі позначені цифрами, та їхніми назвами, що вказані буквами.



- А сумарна
- Б розсіяна
- В поглинута
- Г пряма
- Д відбита