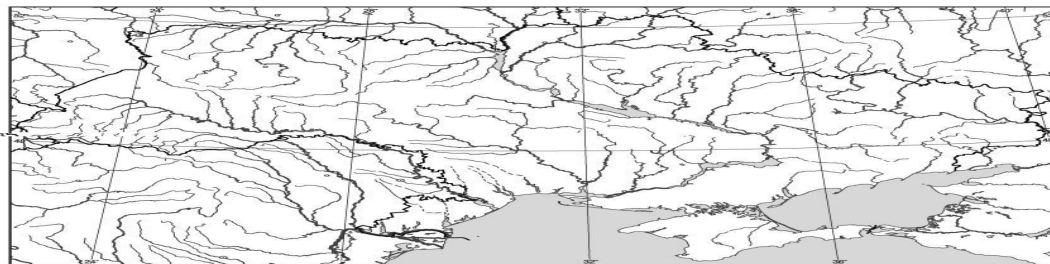


255. Установіть відповідність між річками та формами поверхні, де знаходяться витoki цих річок (див. карту).



- 1 Дніпро
- 2 Прип'ять
- 3 Сіверський Донець
- 4 Дністер

- А Валдайська височина
- Б Поліська низовина
- В Донецький кряж
- Г Карпати
- Д Середньоруська височина

256. Установіть відповідність між типами повітряних мас, що надходять на територію України, та їхнім впливом на формування клімату.

- 1 арктичні
- 2 помірні морські
- 3 помірні континентальні
- 4 тропічні

- А завжди спричиняють опади; взимку приносять потепління, а влітку – похолодання
- Б завжди спричиняють суху погоду – холодну взимку та жарку влітку
- В спричиняють різке зниження температури взимку, пізні весняні й ранні осінні заморозки
- Г завжди приносять опади та різке підвищення температури
- Д приносять суху спекотну погоду у травні та влітку, теплу – на початку осені

257. Установіть відповідність між господарською діяльністю людини та її наслідками для природи.

- 1 надмірне вирубування лісів у Карпатах
- 2 меліорація земель на Поліссі
- 3 побудова гребель на річці Дніпро
- 4 видобуток кам'яного вугілля в Донецькому басейні

- А зникнення багатьох видів вологолюбних рослин і водоплавних птахів
- Б збільшення кількості селевих потоків, повеней і паводків
- В випадання кислотних дощів
- Г зменшення площі родючих земель унаслідок затоплення
- Д формування техногенного рельєфу – териконів

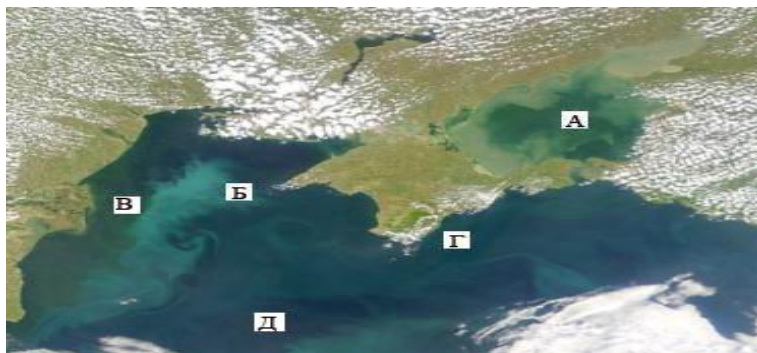
258. На космічному знімку (див. мал.) цифрами позначено райони акваторії двох морів. Установіть відповідність між інформацією про ту чи іншу особливість певного району та цифрою, якою цей район позначено.

1 на дні моря проходить глибинний розлом – осередок сильних землетрусів

2 тут є кілька родовищ природного газу, ведеться підводний його видобуток

3 у цій акваторії є острів Зміїний, біля берегів якого багато риби, імовірно значні поклади нафти

4 максимальні глибини сягають тут лише 15 м



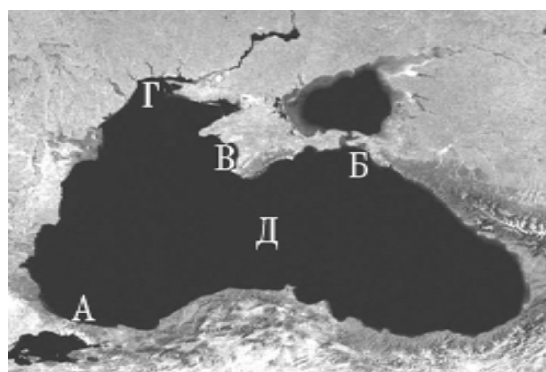
259. Установіть відповідність між інформацією про певні акваторії, позначеною цифрами, та акваторіями, відображеними на космічному знімку буквами.

1 грабен альпійського горотворення

2 схил палеозойської Скіфської плити

3 протока що розділяє місто на європейську та азійську частини

4 схил давньої докембрійської Східноєвропейської платформи



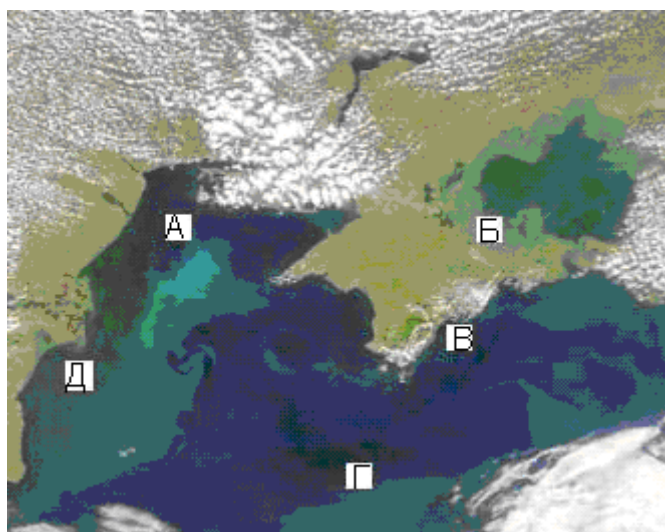
260. Розгляньте космічний знімок. Установіть відповідність між інформацією про певні акваторії, позначеною цифрами, та акваторіями, відображеними на космічному знімку буквами.

1 біля берегів України влітку тут найтепліша вода, проте взимку море в цьому районі може замерзати

2 солоність води в цьому районі перевищує 18‰

3 шельфова зона тут вузька, глибини моря стрімко збільшуються неподалік від берега

4 червону водорість (філофору) збирають тут у великій кількості



261. Установіть відповідність між ландшафтними краями (провінціями) лісостепової зони України та їхніми характеристиками.

- 1 Середньоруський
- 2 Дністровсько-Дніпровський
- 3 Західноукраїнський
- 4 Лівобережно-Дніпровський

А знаходиться в межах Подільської та Придніпровської височин, у минулому значні площі були зайняті широколистяними лісами

Б через неглибоке залягання засолених ґрунтових вод поширені солонцюваті ґрунти з солончаковою рослинністю, трапляються соляні куполи

В переважають сухостепові ландшафти прибережно-морської місцевості

Г найбільш підвищена та найбільш зволожена частина лісостепової зони

Д кліматичні умови континентальніші, ніж в інших лісостепових краях

262. Установіть відповідність між назвами об'єктів природно-заповідного фонду та буквами на картосхемі, якими позначено їхнє місцезнаходження.

- 1 національний парк "Сколівські Бескиди"
- 2 біосферний заповідник "Асканія-Нова"
- 3 Канівський природний заповідник
- 4 Карадазький природний заповідник



263. Установіть відповідність між назвою виду міграції та переміщенням населення в Україні

- 1 внутрішня міграція
- 2 еміграція
- 3 імміграція
- 4 реміграція

А виїзд з Івано-Франківської області на постійне проживання в Іспанію

Б переїзд на проживання у Вінницю з сільської місцевості Хмельницької області

В переїзд представника української діаспори в Римі на постійне проживання в Мілан

Г повернення в Україну киян, які виїжджали до Польщі на постійне проживання

Д в'їзд жителя Молдови в Україну на постійне проживання

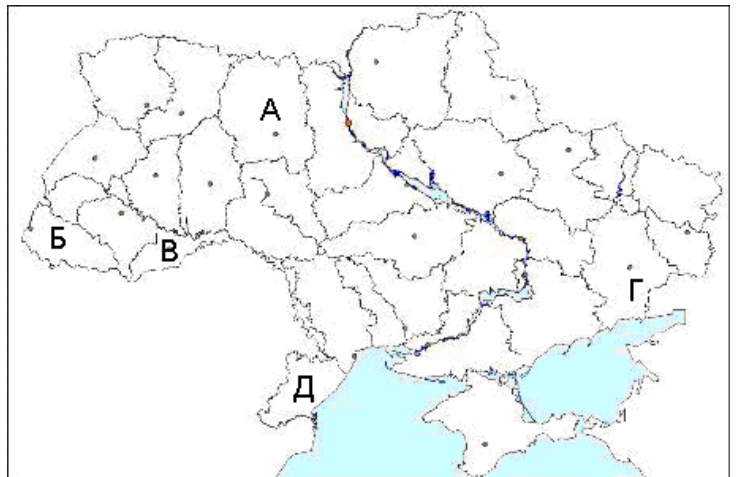
264. Установіть відповідність між національними меншинами України та районами їхнього компактного проживання, що позначені на картосхемі буквами.

- 1 болгари
- 2 кримські татари
- 3 угорці
- 4 поляки



265. Установіть відповідність між представниками тієї чи іншої національної меншини та районом їхнього компактного проживання, позначеного на карті України літерою.

- 1 греки
- 2 румуни
- 3 поляки
- 4 угорці



266. Установіть відповідність між промисловими підприємствами та основними факторами їхнього розміщення.

Підприємство

- 1 меблева фабрика
- 2 верстатобудівний завод
- 3 завод із виробництва соди
- 4 алюмінієвий завод

Фактор розміщення

- А ближче до джерела дешевої енергії
- Б у містах, де є комбінат чорної металургії
- В ближче до споживача продукції
- Г у містах, де наявні кваліфіковані кадри
- Д у місцях, де значні сировинні ресурси

267. Установіть відповідність між підприємствами та факторами їхнього розміщення.

Підприємство

- 1 титано-магнієвий комбінат
- 2 лісопильний завод
- 3 завод сільськогосподарських машин
- 4 авіаційний завод

Фактор розміщення

- А ближче до споживача продукції
- Б у місцях, де є сировина
- В у містах, де є комбінат чорної металургії
- Г ближче до джерела дешевої енергії
- Д у містах, де є кваліфіковані кадри

268. Установіть відповідність між характеристиками галузей тваринництва України та їхніми назвами.

1 найдавніший напрям у тваринництві; у південних регіонах розводять тонкорунну асканійську породу; у Карпатах смушкове виробництво, з молока виготовляють бринзу

2 займає провідне місце у тваринництві; забезпечує сировиною виробництво м'ясних продуктів, сиру, шкіряне виробництво; поширені породи: червона степова, сіра українська, чорно-ряба

3. виробництво поширене в усіх областях; створено багато ферм; проводиться племінна робота; поширені породи: карпатська, поліська, степова; завдяки способу годівлі цих тварин значно зростають урожаї сільськогосподарських культур (гречки, соняшника, плодкових)

4 розвивається найінтенсивніше у приміських вузько-спеціалізованих господарствах, поширені породи: миргородська, українська біла, чорно-ряба; не розвивається в країнах, де панівною вірою є іслам

А звірівництво

Б скотарство

В вівчарство

Г свинарство

Д бджільництво

269. Установіть відповідність між продукцією промисловості будівельних матеріалів і центрами її виробництва.

1 порцеляно-фаянсові вироби

2 скло

3 цемент

4 облицювальні матеріали із природного каменю

А Амвросіївка, Балаклія, Бахчисарай, Золбунів

Б Баранівка, Буди, Коростень, Полонне

В Коростишів, Головине, Жежелів, Житомир

Г Артемівськ, Київ, Костянтинівка, Лисичанськ

Д Бровари, Іллічівськ, Самбір, Шостка

270. Установіть відповідність між центрами художніх промислів та областями України.

1 Опішня (кераміка і килимарство)

2 Петриківка (декоративний розпис)

3. Косів (ткацтво, різьблення по дереву)

4 Кролевець (художнє ткацтво)

А Чернігівська

Б Сумська

В Полтавська

Г Івано-Франківська

Д Дніпропетровська

271. Установіть відповідність між формами організації виробництва на підприємстві та твердженнями про ці форми.

1 концентрація

2 кооперування

3 спеціалізація

4 комбінування

А поєднання кількох взаємозв'язаних за технологічним процесом виробництв на одному підприємстві

Б виробництво на підприємстві однорідної продукції

В налагодження підприємством зв'язків з іншими підприємствами для випуску готової продукції

Г взаємозв'язане поєднання підприємств різних галузей на спільній території

Д зосередження виробництва продукції на великому підприємстві

272. Укажіть відповідність між основними ланками АПК та їхніми функціями.

- | | |
|----------------------------|---|
| 1 виробнича інфраструктура | А вирощування сільськогосподарських культур і розведення сільськогосподарських тварин |
| 2 переробна промисловість | Б виробництво сільськогосподарських машин і обладнання та мінеральних добрив |
| 3 сільське господарство | В зберігання, перевезення та реалізація продукції |
| 4 соціальна інфраструктура | Г виробництво продуктів харчування, тканин і шкіряних виробів |
| | Д підготовка кадрів, дослідницька робота |

273. Установіть відповідність між назвами атомних станцій та їхніми містами-супутниками.

- | | |
|----------------------|-----------------|
| 1 Хмельницька | А Енергодар |
| 2 Рівненська | Б Южноукраїнськ |
| 3 Запорізька | В Кузнецовськ |
| 4 Південноукраїнська | Г Прип'ять |
| | Д Нетішин |

274. Установіть відповідність між економічними районами України та розташованими на їхній території промисловими підприємствами.

- | | |
|---------------------|---|
| 1 Північно-Західний | А Дрогобицький завод автомобільних кранів |
| 2 Карпатський | Б Краматорський завод важкого машинобудування |
| 3 Придніпровський | В Новомосковський трубний завод |
| 4 Причорноморський | Г Рівненська сірникова фабрика |
| | Д Бахчисарайський цементний завод |

275. Установіть відповідність між туристськими об'єктами України та економічними районами, у яких знаходяться вказані об'єкти.

- | | |
|---|---------------------|
| 1 Херсонес | А Центральний |
| 2 Софійський собор | Б Столичний |
| 3 Чернеча гора | В Причорноморський |
| 4 Архітектурний комплекс старого Львова | Г Північно-Західний |
| | Д Карпатський |

276. Визначте відповідність між тепловими електростанціями та економічними районами, у яких вони розташовані.

- | | |
|-------------------|------------------------------|
| 1 Столичний | А Вуглегірська, Луганська |
| 2 Карпатський | Б Криворізька, Запорізька |
| 3 Донецький | В Трипільська, Дарницька |
| 4 Придніпровський | Г Бурштинська, Добротвірська |
| | Д Зміївська, Харківська |

277. Установіть відповідність між економічними районами та розміщеними у них підприємствами.

- | | |
|--------------------|--|
| 1 Північно-Східний | А ЗАТ «Росава» (м. Біла Церква) |
| 2 Центральний | Б Концерн «Лан» (м. Олександрія) |
| 3 Карпатський | В ЗАТ «Укртатнафта» (м. Кременчук) |
| 4 Подільський | Г ВАТ «Хутрофірма «Тисмениця» (м. Тисмениця)
Д ВАТ «Ладижинський завод залізобетонних конструкцій» (м. Ладижин) |

278. Установіть відповідність між областями України та розташованими в них туристськими об'єктами.

- | | |
|---------------------|---|
| 1 Тернопільська | А Святогірська лавра |
| 2 Івано-Франківська | Б Луцький замок |
| 3 Черкаська | В Дендропарк «Софіївка» |
| 4 Волинська | Г печера «Кришталева»
Д гора Говерла |

279. Установіть відповідність між назвами атомних електростанцій та економічними районами, у яких вони знаходяться.

- | | |
|----------------------|---|
| 1 Запорізька | А Причорноморський |
| 2 Рівненська | Б Подільський |
| 3 Хмельницька | В Північно-Західний |
| 4 Південноукраїнська | Г Північно-Східний
Д Придніпровський |

280. Установіть відповідність між екологічними проблемами, що проявляються в певних регіонах України, та економічними районами, де вони мають місце.

- | | |
|---|------------------------------------|
| 1 забруднення річки, що впадає в Чорне море, викидами металургійних підприємств | А Столичний |
| 2 зона екологічної катастрофи у зв'язку з аварією на АЕС у 1986 р. | Б Донецький |
| 3 терикони, провали, підтоплення – наслідок експлуатації шахт вугільного басейну, що простягається на територію сусідньої держави | В Карпатський |
| 4 зсуви через безсистемну надмірну лісозаготівлю | Г Подільський
Д Придніпровський |

281. Установіть відповідність між старими фортецями як туристськими об'єктами та адміністративними одиницями, де вони знаходяться.

- | | |
|-------------------------|----------------------------------|
| 1 Судацька | А Хмельницька область |
| 2 Камянець-Подільська | Б Чернівецька область |
| 3 Хотинська | В Одеська область |
| 4 Білгород-Дністровська | Г Волинська область
Д АР Крим |

282. Установіть відповідність між назвами міжнародних організацій та відомостями про них.

- | | |
|---------|--|
| 1 ООН | А об'єднує США, Канаду, Мексику, реалізуючи угоду про зону вільної торгівлі |
| 2 НАФТА | Б організація країн, що є експортерами нафти |
| 3 СОТ | В серед засновників організації була Україна (на той час УРСР) |
| 4 ОПЕК | Г головна мета діяльності – охорона природних екосистем |
| | Д економічна організація (понад 150 країн-членів), що урегульовує правила міжнародної торгівлі |

283. Установіть відповідність між назвами міжнародних організацій та функціями, які вони виконують.

- | | |
|---------------|---|
| 1 СОТ | А покращення виробництва і збуту продовольства |
| 2 Рада Європи | Б розвиток співробітництва між державами в галузі освіти, науки і культури |
| 3 ФАО | В сприяння інтеграційним процесам у галузі прав людини |
| 4 ЮНЕСКО | Г боротьба з хворобами та поліпшення санітарного стану навколишнього середовища |
| | Д регулювання правил міжнародної торгівлі |

284. Установіть відповідність між регіональними організаціями та країнами, що входять до них.

- | | |
|------------|--------------------------------|
| 1 ЄС | А Бразилія, Аргентина, Уругвай |
| 2 НАФТА | Б Естонія, Болгарія, Румунія |
| 3 АСЕАН | В США, Канада, Мексика |
| 4 МЕРКОСУР | Г Китай, Казахстан, Монголія |
| | Д Таїланд, Індонезія, Сінгапур |

285. Установіть відповідність між країнами-членами ОПЕК та їхніми столицями.

- | | |
|-------------|------------|
| 1 Індонезія | А Абу-Дабі |
| 2 Іран | Б Тріполі |
| 3 ОАЕ | В Багдад |
| 4 Лівія | Г Джакарта |
| | Д Тегеран |

286. Укажіть відповідність між зображеннями визначних об'єктів і країнами, у яких вони знаходяться.

А	Країни	Б
	1 Росія 2 Італія 3 США 4 Велика Британія	
В	Г	Д
		

287. Установіть відповідність між країнами та містами, де функціонують науково-дослідницькі парки.

- | | |
|-------------------|------------|
| 1 Франція | А Сан-Хосе |
| 2 США | Б Ніцца |
| 3 Росія | В Дубно |
| 4 Велика Британія | Г Мюнхен |
| | Д Кембридж |

288. Установіть відповідність між країнами та містами, де функціонують науково-дослідницькі парки.

- | | |
|-------------------|------------|
| 1 Велика Британія | А Кембридж |
| 2 Японія | Б Бангалор |
| 3 Індія | В Сан-Хосе |
| 4 США | Г Цукуба |
| | Д Ніцца |

289. Установіть відповідність між країнами та структурою релігійних вірувань їхнього населення

- | | |
|----------|---|
| 1 Росія | А індуїсти – 81%, мусульмани – 12%, християни – 2%, сікхи – 2%, інші, включаючи буддистів, джайнів, парсів, – 3% |
| 2 Китай | Б православні – 40%, мусульмани – 10%, протестанти – 1%, іудеї – 0,4%, католики – 0,3%, атеїсти та інші – 48,3% |
| 3 Єгипет | В мусульмани-сунніти – 94%, християни-копти та інші – 6% |
| 4 США | Г протестанти – 56%, католики – 28%, іудаїсти – 2%, інші – 4% |
| | Д атеїсти – 64%, національна релігія (поєднання конфуціанства, даосизму та буддизму) – 20%, буддисти – 9%, мусульмани – 1%, інші – 6% |

290. Установіть відповідність між країнами й поширеними в них релігіями та релігійними гілками.

- | | |
|-------------|-----------------|
| 1 Іран | А іслам |
| 2 Греція | Б буддизм |
| 3 Франція | В католицизм |
| 4 Австралія | Г православ'я |
| | Д протестантизм |

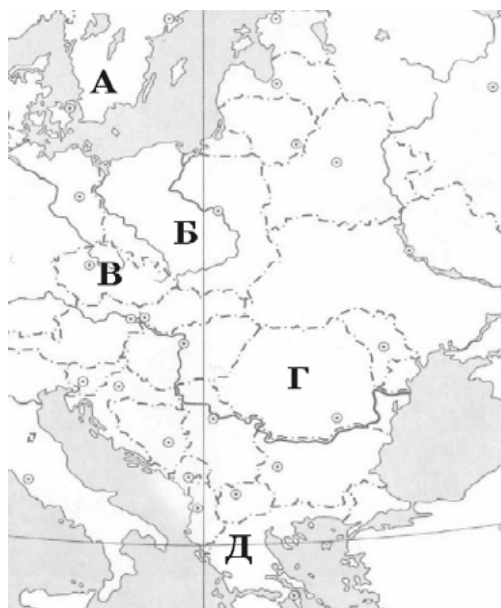
291. Розгляньте картосхему. Установіть відповідність між інформацією, що характеризує ту чи іншу державу, та державою, що позначена на карті буквою.

1 населення країни утворює окрему групу індоєвропейської мовної сім'ї; панівною є православна віра; столиця – одне з найдавніших міст світу

2 у країні переважає гірський рельєф; через її територію протікає друга за довжиною ріка Європи; 49% населення зайнято в промисловості

3 країна – член ЄС, але не входить до НАТО; багата на лісові ресурси; виробляє автомобілі «Вольво»; населення мешкає переважно на півдні країни

4 країна, населення якої становить 38,6 млн осіб; експортує вугілля, мідь, продукцію машинобудування й АПК; має значний товарообіг з Україною (>1 млрд доларів США)



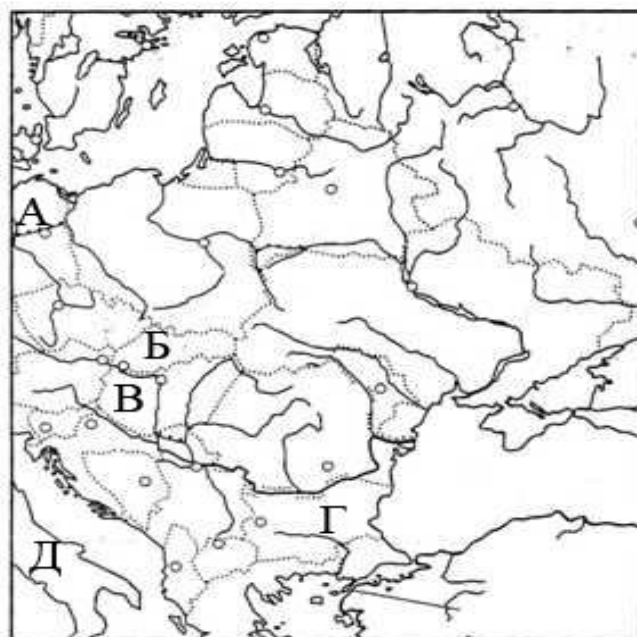
292. Розгляньте картосхему. Установіть відповідність між інформацією, що характеризує ту чи іншу державу, та державою, що позначена на карті буквою.

1 країна з населенням, яке не належить до індоєвропейської мовної сім'ї; є виробником автобусів «Ікарус»; має всесвітньовідомий район виноградарства «Токай»

2 за устроєм країна є федеративною; в обсязі ВВП країн ЄС її частка – 30%; лише продукції машинобудування експортує на суму 250 млрд доларів США на рік

3 у межах країни знаходиться Монблан; в одному з портів працює завод, що виплавляє 10 млн т сталі на рік; за виробництвом взуття поступається лише Китаю

4 у населенні країни переважають слов'яни, а з релігій – православ'я; має промислове виробництво трояндової олії; країна – член НАТО, однією з останніх оформила своє членство в ЄС



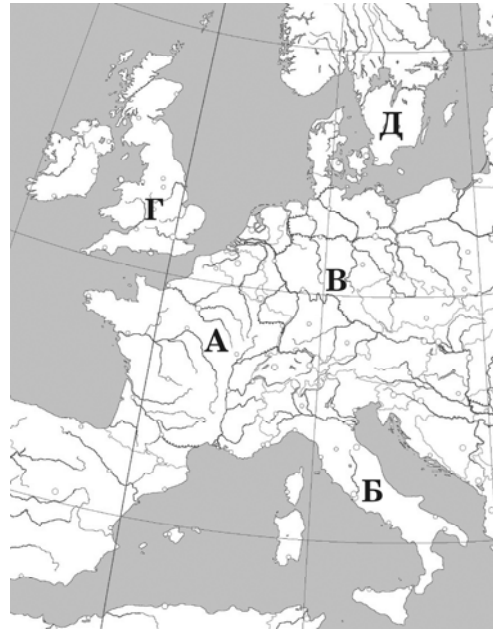
293. Установіть відповідність між інформацією, що характеризує ту чи іншу державу, та державою, позначеною на карті буквою.

1 за збором винограду утримує перше місце у світі, один із кварталів столиці є територією теократичної монархії

2 за промисловим потенціалом поступається тільки США та Японії, у результаті об'єднання країни в кінці XX ст. збільшилася її територія, поновлено місцезнаходження столиці

3 має значні запаси нафти на шельфі, конституційна монархія, лідер серед країн Співдружності Націй

4 за населенням – друга, за площею – перша країна в Західній Європі, у одному з міст на сході знаходиться Європейський парламент



294. Установіть відповідність між країнами Латинської Америки та їхніми характеристиками.

1 Бразилія

2 Венесуела

3 Куба

4 Перу

А «Острів свободи», один із лідерів вирощування та експорту цукрової тростини

Б серед пам'яток всесвітньої культурної спадщини – столиця інків Куско, Мачу Пікчу

В має найбільші запаси, але не є лідером з експорту нафти в регіоні

Г державна мова англійська, великі запаси бокситів, що експортуються в Україну

Д «тропічний гігант», ВВП більший, ніж у Канаді, експортує автомобілі

Завдання на встановлення правильної послідовності

295. Розташуйте імена мандрівників за часом їхніх відкриттів, починаючи з найдавнішого.

А Христофор Колумб

Б Вітус Берінг

В Марко Поло

Г Жак Ів Кусто

296. Укажіть мандрівників-дослідників за часом здійснення ними найбільших географічних відкриттів (від найдавнішого часу).

А Ф. Магеллан

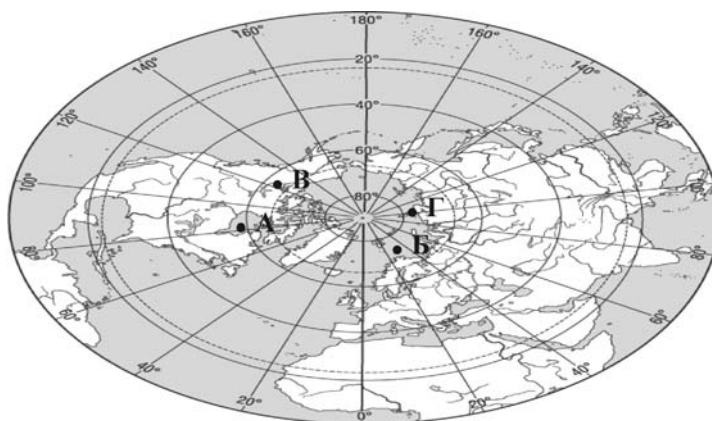
Б Х. Колумб

В Д. Лівінгстон

Г А. Тасман

297. Розташуйте імена мандрівників в тій послідовності, в якій знаходяться відповідні їм географічні об'єкти, що позначені точками на карті, починаючи від лінії зміни дат зі сходу на захід.

- А Генрі Гудзон
- Б Вільям Баренц
- В Александр Маккензі
- Г Семен Челюскін



298. Установіть послідовність відкриття європейцями вказаних географічних об'єктів.

- А Нова Зеландія
- Б Мис Доброї Надії
- В Антарктичний півострів
- Г Магелланова протока

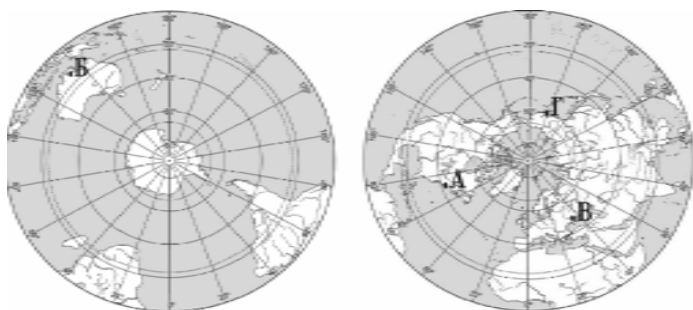
299. Розташуйте напрямки послідовно, починаючи від найменшого значення їхнього азимута.

- А південний захід
- Б північний схід
- В захід
- Г схід

300. Розташуйте позначені на обох півкулях буквами географічні об'єкти в порядку зменшення тривалості світлої частини доби в цих точках 22 грудня.

- А Кримський півострів
- Б півострів Антарктичний
- В острів Ісландія
- Г острів Мадагаскар

301. Розташуйте позначені на карті буквами географічні об'єкти в порядку настання в них нової доби.



302. Назвіть послідовно ери геологічного розвитку Землі – від найдавнішої до кайнозою.

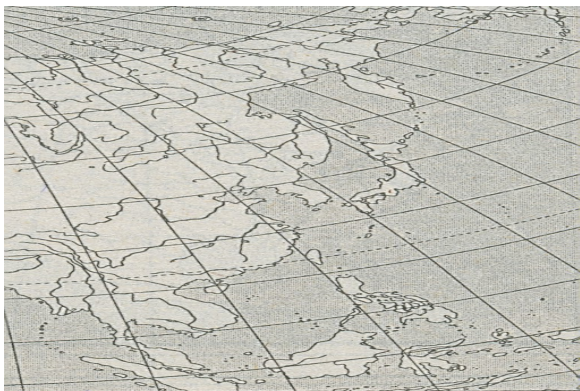
- А** палеозойська
- Б** архейська
- В** мезозойська
- Г** протерозойська

303. Під час бурових робіт геологи підняли на поверхню породи різного віку. Визначте порядок їхнього залягання від поверхні землі вглиб її надр, за умови, що не було порушено послідовність відкладів.

- А** граніт протерозойського віку
- Б** сланець девонського віку
- В** вапняк крейдового віку
- Г** пісковик неогенового віку

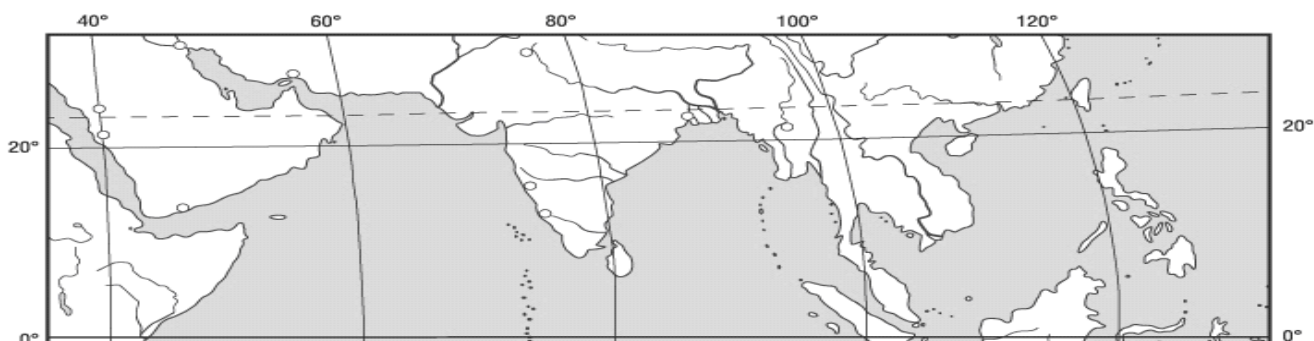
304. Укажіть острови, що знаходяться вздовж східного узбережжя Євразії, у порядку віддалення від екватора.

- А** Курильські
- Б** Філіппінські
- В** Японські
- Г** Зондські



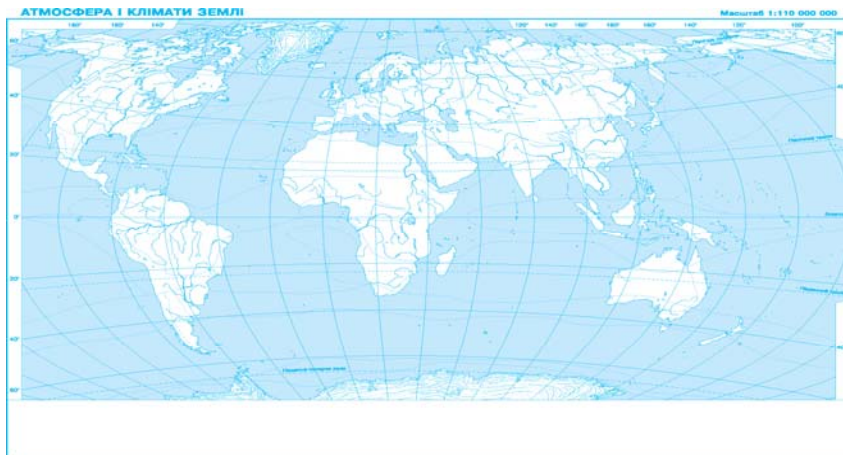
305. Укажіть послідовно географічні об'єкти в порядку віддалення від Грінвіцького меридіана.

- А** Південнокитайське море
- Б** Бенгальська затока
- В** Перська затока
- Г** Червоне море



306. Кокосовий горіх упав у море з берега о. Лусон (Філіппінський архіпелаг), а хвиля з часом прибила його на о. Кадьяк (поблизу Північної Америки). Укажіть послідовно течії, що несли горіх.

- А** Північна Пасатна
- Б** Аляскінська
- В** Куросіо
- Г** Північно-Тихоокеанська



307. Розташуйте послідовно назви водних мас Індійського океану (від острова Ява до берегів Антарктиди).

- А** тропічні
- Б** екваторіальні
- В** полярні
- Г** помірні

308. Визначте, у якій послідовності експедиція спостерігатиме зміну типів водних мас Тихого океану, якщо вона пливе від берегів Антарктиди до острова Нова Гвінея.

- А** полярні
- Б** екваторіальні
- В** тропічні
- Г** помірні

309. Установіть послідовність океанічних течій, що впливають на клімат західного узбережжя Америки (з півночі на південь).

- А** Каліфорнійська
- Б** Перуанська
- В** Аляскінська
- Г** Західних Вітрів

310. Установіть послідовність зміни типів клімату помірного кліматичного поясу в Північній Америці (із заходу на схід).

- А** континентальний
- Б** помірно континентальний
- В** мусонний
- Г** морський

311. Укажіть послідовно річки Африки за розташуванням їхніх гірл з півночі на південь.

- А** Замбезі
- Б** Ніл
- В** Нігер
- Г** Конго

312. Установіть послідовність зміни зазначених природних зон у Канаді з півночі на південь.

- А** широколисті ліси
- Б** мішані ліси
- В** тундра й лісотундра
- Г** тайга

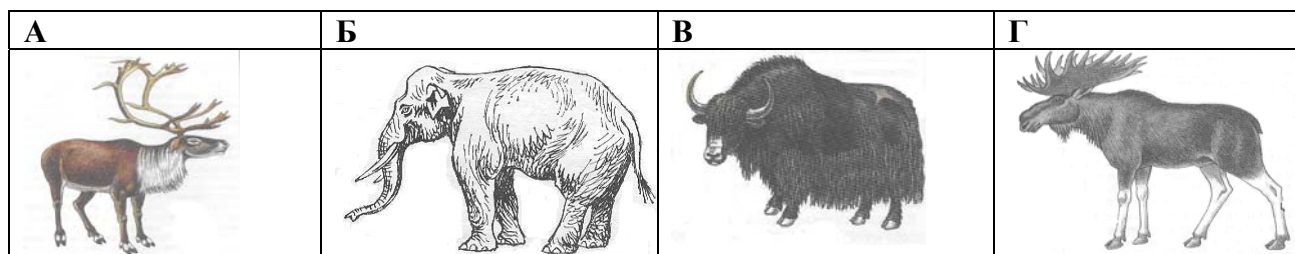
313. Установіть послідовність розташування природних зон Східноєвропейської рівнини (з півночі на південь).

- А** степ
- Б** мішані ліси
- В** лісостеп
- Г** тайга

314. Установіть послідовність розташування лісових висотних поясів південних схилів Гімалаїв, починаючи від підніжжя.

- А** вічнозелені субтропічні
- Б** хвойні
- В** заболочені тропічні
- Г** рододендронові та мішані

315. Укажіть послідовно типових представників тваринного світу географічних поясів Євразії, починаючи від найближчого до екватора.



316. Установіть послідовність розташування заповідників і національних парків світу (з півночі на південь).

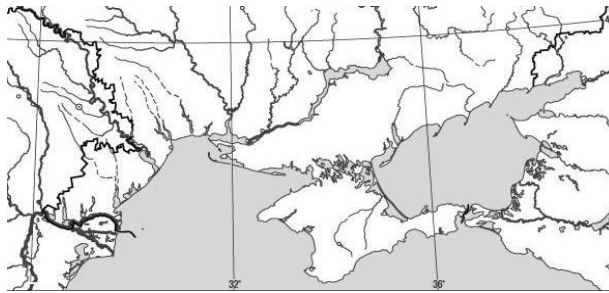
- А** Біловезька пуца
- Б** Ігуасу
- В** Серенгеті
- Г** Чорноморський

317. Розташуйте послідовно твори, де подано географічний опис України, зважаючи на час їхнього написання, починаючи від найдавнішого.

- А** «Труды этнографическо-статистической экспедиции вь Западно-Русскій край» у 7-ми томах Павла Чубинського
- Б** «Українська географічна енциклопедія» у 3-х томах (за редакцією члена-кореспондента НАН України Олександра Маринича)
- В** «Опис Україн» Гійома Левассера де Боплана
- Г** «Коротка географія України. Антропогеографія» Степана Рудницького.

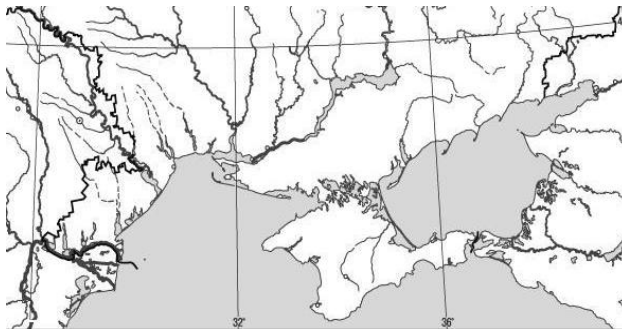
318. Установіть послідовність розташування географічних об'єктів Азово-Чорноморського узбережжя (зі сходу на захід).

- А Дністровський лиман
- Б озеро Сиваш
- В Кілійське гирло
- Г Арабатська стрілка



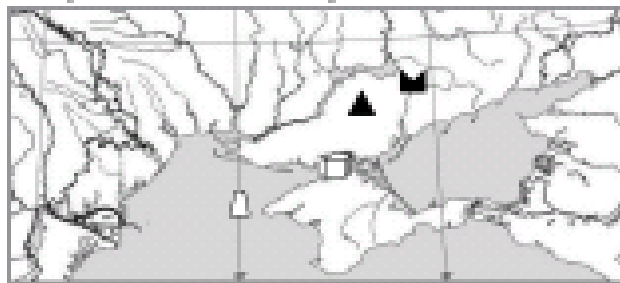
319. Установіть послідовність розташування географічних об'єктів уздовж Чорноморського узбережжя (із заходу на схід).

- А Каркінітська затока
- Б о. Джарилгач
- В дельта Дунаю
- Г мис Сарич



320. Розташуйте послідовно в порядку віддалення від Донецького вугільного басейну назви родовищ корисних копалин України, зображених на карті умовними знаками.

- А Голіцинське
- Б Сиваське
- В Білозерське
- Г Великотокмацьке



321. Установіть послідовність розташування горизонтів підзолистих ґрунтів, починаючи від поверхні.

- А горизонт вимивання
- Б горизонт вмивання
- В гумусовий горизонт
- Г материнська порода

322. Розташуйте послідовно одиниці регіональної класифікації ландшафтів України, починаючи від найбільшої за рангом.

- А область
- Б зона
- В край
- Г країна

323. Установіть послідовність розташування ландшафтних країв лісостепової зони України (зі сходу на захід).

- А** Середньоруський
- Б** Дністровсько-Дніпровський
- В** Західноукраїнський
- Г** Лівобережно-Дніпровський

324. Установіть послідовність розташування фізико-географічних областей Поліського краю (із заходу на схід).

- А** Житомирське Полісся
- Б** Чернігівське Полісся
- В** Волинське Полісся
- Г** Київське Полісся

325. Установіть послідовність перетину природних областей Українських Карпат, якщо рухатись у напрямку з північного сходу на південний захід.

- А** Полонинсько-Чорногірська
- Б** Зовнішньокарпатська
- В** Вулканічно-Карпатська
- Г** Вододільно-Верховинська

326. Установіть послідовність зміни рослинності у висотних поясах Українських Карпат, починаючи від підніжжя:

- А** ялицево-смерекові ліси
- Б** буково-ялицеві ліси
- В** рідколісся та субальпійські луки
- Г** дубово-грабові ліси

327. Розташуйте вказані нижче території в тій послідовності, у якій вони приєднувалися до України в 30-х – 50-х роках ХХ століття.

- А** Західна Волинь
- Б** Закарпаття
- В** Кримська область
- Г** Північна Буковина

328. Розташуйте історико-етнографічні землі України в тій часовій послідовності, у якій вони заселялися й освоювалися українцями.

- А** Слобожанщина
- Б** Волинь
- В** Таврія
- Г** Запоріжжя

329. Укажіть історико-етнографічні землі в тій послідовності, у якій вони заселялися українцями.

- А** Донщина
- Б** Запоріжжя
- В** Галичина
- Г** Таврія

330. Розташуйте послідовно міста України за кількістю населення, починаючи від найменшої.

- А** Сімферополь
- Б** Харків
- В** Львів
- Г** Одеса

331. Розташуйте послідовно національності України (за кількістю населення, починаючи від найменшої).

- А** угорці
- Б** українці
- В** гагаузи
- Г** росіяни

332. У якій послідовності відвідає турист обласні центри, якщо він прямує зі Львова в Полтаву за вказаним на картосхемі маршрутом.



- А** Вінниця
- Б** Черкаси
- В** Тернопіль
- Г** Хмельницький

333. Установіть послідовність елементів територіальної структури промисловості, починаючи від найскладнішого.

- А** промисловий вузол
- Б** промисловий район
- В** промисловий пункт
- Г** промисловий центр

334. Установіть послідовність стадій металургійного виробничого процесу, починаючи від початкової.

- А** виготовлення прокату
- Б** збагачення руди
- В** виплавлення сталі
- Г** виплавлення чавуну

335. Розташуйте сільськогосподарські культури, що культивуються в Україні, у порядку збільшення кількості тепла в зонах вирощування.

- А** соняшник
- Б** льон-довгунець
- В** рис
- Г** цукровий Буряк

336. Розташуйте організації за кількістю країн-учасниць, починаючи від найбільшої кількості.
А ГУАМ
Б ЄС
В ООН
Г НАФТА

337. Розташуйте міжнародні організації та об'єднання у послідовності створення із зазначеними назвами (без врахування організацій, що були їхніми попередниками).
А Співдружність Незалежних Держав
Б Європейський Союз
В Організація Об'єднаних Націй
Г Організація Північноатлантичного Договору

338. Розташуйте назви регіонів США за часом освоєння їх мігрантами з Європи, починаючи від найдавнішого періоду.
А Великі рівнини та степи-прерії – «хлібний кошик» країни
Б Гірські штати – «атомний полігон» і «космічна лабораторія» США
В Нова Англія – «промислова майстерня» США
Г Приозер'я – «індустріальне серце» США

339. Обчисліть середню густоту (щільність) населення в країнах, указаних у таблиці, і розташуйте ці країни послідовно, починаючи від найменшого визначеного показника.

	Країна	Кількість населення ,млн осіб	Площа, тис. км ²
А	Китай	1320	9 598
Б	Мексика	108	1 967
В	Німеччина	83	357
Г	Нігерія	132	834

340. Обчисліть середню густоту (щільність) населення країн, зазначених у таблиці. Розташуйте їх послідовно – від найбільшого до найменшого показника.

	Країна	Кількість населення, млн осіб	Площа, тис. км ²
А	Індія	1092	3288
Б	Бразилія	186	8512
В	Нідерланди	16,5	41,9
Г	Єгипет	79	1001

341. Визначте ресурсозабезпеченість нафтою вказаних у таблиці країн. Розташуйте їх у порядку збільшення цього показника.

	Країна	Розвідані запаси, млрд т	Видобуток, млн т
А	Саудівська Аравія	45,1	450
Б	ОАЕ	16,2	120
В	Росія	6,7	300
Г	США	3,8	380

342. Визначте ресурсозабезпеченість нафтою країн, вказаних у таблиці. Розташуйте їх послідовно, починаючи від найменшого обчисленого показника.

	Країни	Запаси, млрд т	Видобуток, млн т
А	Ірак	16,90	130
Б	Іран	14,25	190
В	Лівія	4,55	70
Г	Саудівська Аравія	40,50	450

343. Визначте водозабезпеченість населення зазначених у таблиці країн. Розташуйте їх послідовно, починаючи від найменшого показника

	Країни	Ресурси прісної води, км ³	Кількість населення, млн осіб
А	Венесуела	1320	28
Б	Бангладеш	2360	145
В	Канада	2900	33
Г	Бразилія	6950	190

344. Визначте показники розораності територій вказаних у таблиці країн. Розташуйте їх, починаючи від найбільшого визначеного показника.

	Країна	Всі землі	Орні землі
А	США	937,3	179,0
Б	Індія	328,8	169,0
В	Китай	959,7	135,5
Г	Україна	60,3	34,2

345. Розташуйте країни за ВВП на душу населення, починаючи від найменшого.

- А** Китай
- Б** Польща
- В** Ефіопія
- Г** Канада

346. Розташуйте країни за їхнім показником ВВП на душу населення, починаючи від найменшого.

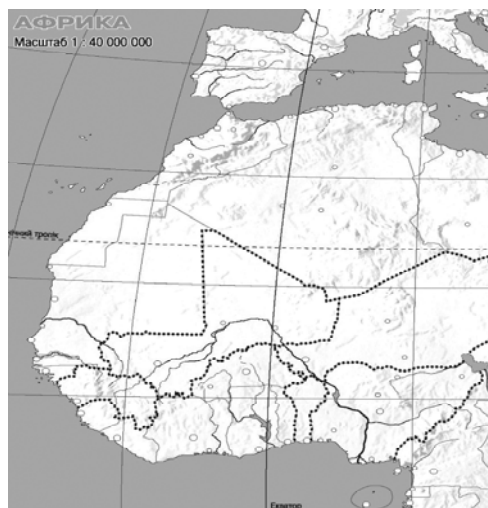
- А** Велика Британія
- Б** Португалія
- В** Сомалі
- Г** Білорусь

347. Розташуйте послідовно країни Африки (з півночі на південь).

- А** Південноафриканська Республіка
- Б** Єгипет
- В** Судан
- Г** Демократична Республіка Конго

348. Припустимо, що річка Нігер біля витоку була забруднена шкідливими речовинами. Укажіть послідовно країни лівобережжя, які зазнали б небезпеки.

- А** Нігерія
- Б** Нігер
- В** Малі
- Г** Гвінея



349. Установіть хронологічну послідовність подій (починаючи від найдавнішої), наслідком яких є антропогенні зміни в природі.

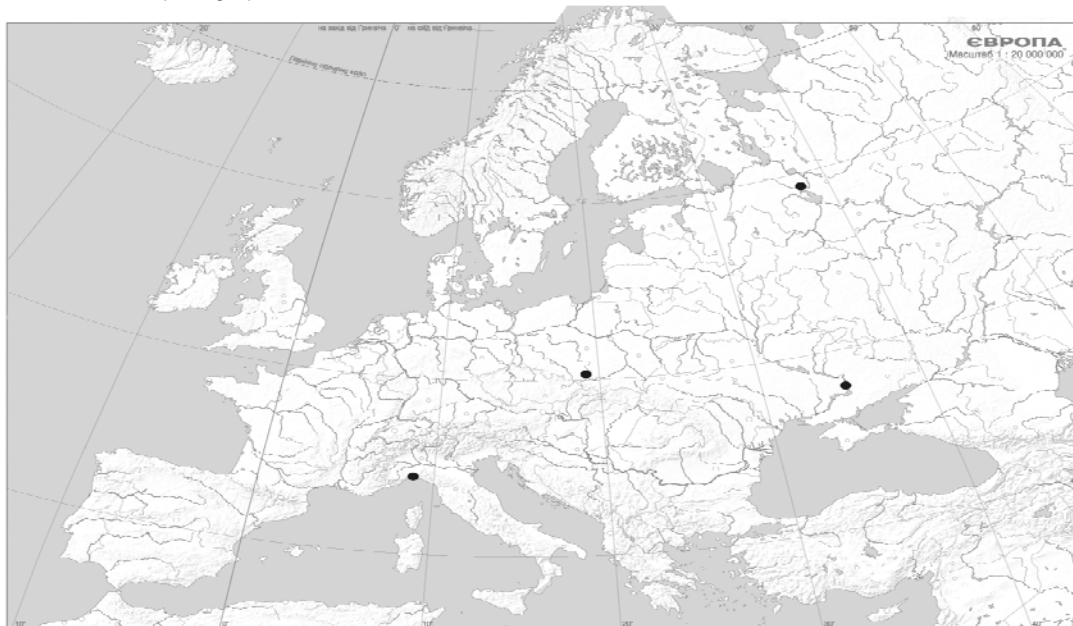
- А** початок будівництва каскаду водосховищ на Дніпрі, що призвело до втрати значних площ родючої землі
- Б** початок переселення з Америки в Європу рослин-ендемів, що стали поширеними сільськогосподарськими культурами
- В** початок переселення тварин із Європи в Австралію, що стало справжнім лихом для місцевої фауни
- Г** прийняття законів України «Про охорону навколишнього середовища» та «Про зону надзвичайної екологічної ситуації», спрямованих на поліпшення екологічної ситуації в державі

350. Установіть у хронологічній послідовності події (від найдавнішої), що пов'язані із впливом людини на природу.

- А** будівництво водосховища та Асуанської ГЕС на р. Ніл
- Б** створення Чорнобильської зони відчуження після аварії на ЧАЕС
- В** повне знищення «стелерової корови» на Далекому Сході
- Г** заснування зоопарку та дендропарку Ф. Фальц-Фейном в Асканії-Новій, що стало початком створення заповідника для збереження природи європейського степу

351. Вказані нижче промислові райони Європи зі складною екологічною ситуацією знайдіть на карті і укажіть їх послідовно з півночі на південь.

- А** Верхньосілезький (Катовіце)
- Б** Придніпровський (Кривий Ріг)
- В** Північно-Західний (Череповець)
- Г** Північний (Генуя)



352. Установіть хронологічну послідовність подій (починаючи від найдавнішої), наслідком яких є антропогенні зміни в природі.

- А** широкомасштабна меліорація земель Полісся, передбачена п'ятирічними планами союзної держави, до складу якої входила Україна
- Б** створення Чорнобильської зони відчуження після аварії на ЧАЕС
- В** заснування зоопарку та дендропарку Ф. Фальц-Фейном в Асканії-Новій, що стало початком створення заповідника для збереження природи європейського степу
- Г** прийняття Верховною Радою незалежної України Закону «Про ратифікацію «Європейської ландшафтної конвенції»

353. Туристське судно здійснює круїз Середземним і Чорним морями за маршрутом Гібралтар – Одеса. У якій послідовності туристи оглянуть вказані на карті визначні міста і пам'ятки, якщо судно здійснює найкоротші переходи між портами?

- А** античний храм Акрополь в Афінах
- Б** руїни Помпеї на схилах Везувію
- В** мечеть Айя-Софія в Стамбулі
- Г** місто Ніццу на французькій Рив'єрі

